

AS 7 - ASSISTENTE - CARTEIRA DE AGRONEGÓCIOS

TIPO DE PROVA

01

Provas de Português, Informática e Conhecimentos Específicos.

INSTRUÇÕES GERAIS

01. Leia com atenção todas as instruções deste **Caderno de Questões**.
02. Este Caderno de Questões só deverá ser aberto quando for autorizado pelo Fiscal de Sala.
03. **Assine** neste Caderno de Questões e coloque o número do seu documento de identificação.
04. Verifique se este Caderno de Questões contém 40 (quarenta) questões com 05 (cinco) alternativas cada, caso contrário comunique imediatamente ao Fiscal.
05. A prova terá a duração de 03 (três) horas. Você só poderá sair do Local de Prova 02 (duas) horas após o seu início. Os 03 (três) últimos candidatos só poderão ausentar-se do recinto juntos, após a assinatura da ata.
06. Ao receber a **Folha de Respostas**, confira seu **nome, tipo de prova** e o **número do seu documento de identificação**.
07. Em hipótese alguma lhe será concedida outra Folha de Respostas.
08. Marque suas respostas na Folha de Respostas utilizando caneta esferográfica de tinta azul ou preta, preenchendo completamente o círculo correspondente à alternativa escolhida, conforme modelo: ● .
09. Será atribuído o valor ZERO à questão que contenha na Folha de Respostas de Questões Objetivas: dupla marcação, marcação rasurada ou emendada, não preenchida totalmente ou que não tenha sido transcrita do Caderno de Questões para a Folha de Respostas.
10. A correção das provas será efetuada considerando-se apenas o conteúdo da Folha de Respostas.
11. Caso a Comissão julgue uma questão como sendo nula, seus pontos serão atribuídos à todos os candidatos.
12. Não será permitida qualquer espécie de consulta.
13. Ao terminar a prova, devolva ao Fiscal este Caderno de Questões, juntamente com a Folha de Respostas e assine a **Lista de Presença**.

Boa Prova!

Nº do documento de identificação:

Assinatura do candidato:



FUNDEPES

Maceió/AL, 28 de outubro de 2007

PORTUGUÊS

As questões 1 e 2 referem-se ao texto seguinte.

1 “É regra disciplinar e de saúde: na escola pública
3 Sydney’s Arncliffe, na **Austrália**, tornou-se **obrigatório** o
5 uso de óculos escuros, até para crianças que estão no
jardim de **infância**. O Hospital dos Olhos de Sydney alertou
para os riscos da exposição aos raios ultravioleta.”
(IstoÉ, 8/8/2007)

01. Qual a função da linguagem evidente no texto?

- A) referencial
- B) apelativa
- C) conativa
- D) poética
- E) metalingüística

02. Os termos **dos olhos** (linha 4) e **aos raios ultravioleta** (linha 5) são, respectivamente,

- A) adjunto adnominal e complemento nominal.
- B) complemento nominal e predicativo do objeto.
- C) adjunto adnominal e objeto indireto.
- D) adjunto adnominal e adjunto adnominal.
- E) complemento nominal e adjunto adverbial.

03. Assinale a alternativa em que o **a** inicial do pronome demonstrativo não deve receber o acento indicativo da crase.

- A) A atitude do síndico prejudicou a esse morador, mas não aquele.
- B) Guilherme odiava aquelas pessoas; achava-as tolas, imbecis.
- C) Quanto aquele problema, já o resolvi.
- D) O gerente do banco autorizou o empréstimo aquela depositante.
- E) Refiro-me aquela peça a que assistimos sábado passado.

04. Assinale a alternativa que não viola a concordância verbal, do ponto de vista da norma-padrão da língua portuguesa.

- A) Já houve cargos bem remunerados naquela empresa.
- B) O motorista e o passageiro já havia saído do veículo.
- C) Se houvessem vagas suficientes, não haveria vestibular.
- D) Em breve, não haverão mais pessoas honestas na cidade.
- E) Devem haver muitas pesquisas sobre o tema proposto.

As questões 5 e 6 referem-se ao texto seguinte.

O bruxo

1 Nós dois, Paulo e eu, precisávamos planejar o que
3 fazer, como fazer. Pai e mãe não se largavam mais do
homem. Antes juravam sobre o que ele dizia. E pai estava
morrendo a olhos vistos. Hoje amanhecera sem poder
levantar-se, lívido, as pernas sem forças, vergando para
trás.

7 Mas, à noite, aquele homem reuniria todos ao redor
da mesa, pediria bebidas e cigarros e falaria pelos
espíritos, até arriar de bêbado.

9 Ele surgira estrada a fora e entrara. Viera curar pai da
11 diabetes, se em troca lhe desse alguns alqueires de terra.
Pai escreveu num papel a doação do “Cana Caiana”,
13 metade de seu gado, matas para extração de madeira e
pusera tudo no cofre.

15 O homem queria aquilo, queria as terras, as matas, o
gado. Tinha o poder da morte nas mãos e tomaria tudo do
pai, que não tinha mais forças. Nem forças, nem fala.

– **Pai**, você **vai morrer**. Este homem **o** está matando.

19 – Mãe, este homem está matando o pai.

– Calado, calado. Se ele ouve o que dizes,
21 morreremos todos.

(Heliônia Ceres)

05. De acordo com o texto,

- A) a expressão “tinha o poder da morte nas mãos” (linha 16) quer dizer que o homem fazia o que queria da morte.
- B) a idéia central é relatar a crença humana diante do espiritismo ou bruxaria.
- C) a autora busca mostrar a fraqueza do homem diante da bruxaria.
- D) o diabético faria tudo o que estivesse ao seu alcance para receber a cura.
- E) os filhos não queriam a cura do pai.

06. Os termos em negrito na linha 18 são, respectivamente,

- A) sujeito, predicado nominal e objeto direto.
- B) vocativo, predicado verbal e adjunto adnominal.
- C) sujeito, predicado verbo-nominal e adjunto adnominal.
- D) vocativo, predicado nominal e objeto direto.
- E) vocativo, predicado verbal e objeto direto.

07. Assinale a alternativa em que o **se** tem a função sintática de partícula apassivadora.

- A) “O mestre sorriu-se da tradição.”
- B) “E deixou-se estar a contemplá-la, mudo e tranqüilo, como um faquir.”
- C) “Tal era o plano importantíssimo, que o Messias se propusera realizar sobre a terra.”
- D) “Feitas as exceções devidas, não se lêem muito os clássicos no Brasil.”
- E) “Passavam-se os dias, e nada acontecia.”

As questões 8 e 9 referem-se ao texto seguinte.

1 “Aquele mulher ruiva e de cabelos ensolarados, o
3 chapéu preto bem no alto da cabeça, a casaquinha de
5 veludo azul, e estofada pelo volume duro dos peitos
7 apertados por baixo, que subiam e desciam no balanço da
respiração, a mão esquerda segurava senhoril e graciosa **as rédeas**, a direita brincava com o chicote de prata nas dobras da amazona, toda ela empinada, fazendo com seu cavalo um todo de estátua [...]”

(Aurtrán Dourado)

08. Indique o tempo e o modo dos verbos **subiam/desciam** (linha 4) e **segurava/brincava** (linhas 5 e 6).

- A) Todos estão no pretérito imperfeito do indicativo.
- B) Pretérito perfeito e pretérito imperfeito do indicativo, respectivamente.
- C) Presente e pretérito perfeito do indicativo, respectivamente.
- D) Todos estão no pretérito perfeito do indicativo.
- E) Pretérito imperfeito e pretérito mais-que-perfeito do indicativo, respectivamente.

09. Dadas as afirmações referentes ao texto,

- I. Na substituição do termo em negrito (linhas 5-6), por pronome, ter-se-ia a seguinte construção: **segurava-lhes**.
- II. A palavra **ensolarados** (linha 1) é formada pelo processo de prefixação.
- III. A palavra **alto** (linha 2) funciona, no texto, como adjetivo.
- IV. Os adjetivos **senhoril** e **graciosa** (linha 5) referem-se ao termo **as rédeas** (linhas 5-6).

verifica-se que

- A) somente a I e a III estão corretas.
- B) somente a II e a III estão incorretas.
- C) somente a I está correta.
- D) todas estão corretas.
- E) todas estão incorretas.

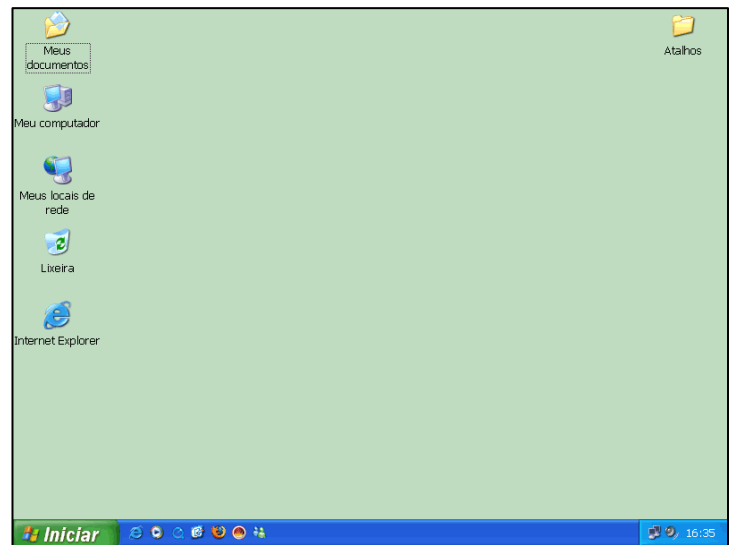
10. Faz parte da linguagem coloquial o uso do verbo *ter* no lugar de *haver* com sentido de *existir* ou *acontecer*. Dados os períodos seguintes, quais deles estão incorretos, considerando-se a norma-padrão da língua portuguesa?

- I. Tem gente que não sabe o que diz.
- II. Tem muito mato naquele campo.
- III. Ontem não teve aula em nosso colégio.
- IV. Hoje vai ter uma festa na casa de nosso tio.
- V. Terá vegetação aquele planeta?



- A) II, III, IV, V
- B) I, II, III, IV
- C) II, III, V
- D) I, II, IV, V
- E) I, III, V

INFORMÁTICA

Baseando-se na figura abaixo, responda as questões 11 e 12.




11. Assinale a afirmativa correta.


- A) Para abrir o aplicativo **Calculadora**, é suficiente escolher a opção **Executar...** do menu **Iniciar**, digitar “calc” e clicar no botão **OK**.
- B) Ao clicar no ícone  da **Área de Trabalho** visualiza-se as páginas visitadas recentemente na **Internet**.
- C) Ao clicar no ícone  abre-se uma janela de configuração de rede e **Internet**.
- D) A partir da opção **Painel de Controle**, do menu **Iniciar**, é possível visualizar os arquivos abertos recentemente.
- E) Na **Lixeira** são armazenados arquivos danificados ou infectados por vírus.

12. Dadas as proposições abaixo,

- I. É possível acessar as **Propriedades de Vídeo** do computador clicando com o botão direito do *mouse* sobre a **Área de Trabalho** e escolhendo a opção **Propriedades**.



- II. Ao clicar no ícone  da **Área de Trabalho** abre-se uma janela onde é possível visualizar arquivos pessoais do usuário.

- III. A partir da seqüência de opções  → **Documentos** → **Acessórios** → **Bloco de Notas**, é possível abrir o aplicativo **Bloco de Notas**.

está correto o que se afirma em

- A) II e III.
- B) I e III.
- C) I e II.
- D) III, apenas.
- E) I, II e III.

A figura abaixo serve como base para responder a questão 13.

The screenshot shows the Microsoft Excel 2003 interface. The spreadsheet has the following data:

Mês	Anterior	Depósito	Rendimento	Montante
jan07	R\$ -	R\$ 200,00	R\$ 1,000	R\$ 201,000
fev07	R\$ 201,000	R\$ 200,00	R\$ 2,005	R\$ 403,005
mar07	R\$ 403,005	R\$ 200,00	R\$ 3,015	R\$ 606,020
abr07	R\$ 606,020	R\$ 200,00	R\$ 4,030	R\$ 810,050
mai07	R\$ 810,050	R\$ 200,00	R\$ 5,050	R\$ 1.015,100
jun07	R\$ 1.015,100	R\$ 200,00	R\$ 6,076	R\$ 1.221,176
jul07	R\$ 1.221,176	R\$ 200,00	R\$ 7,106	R\$ 1.428,282
ago07	R\$ 1.428,282	R\$ 200,00	R\$ 8,141	R\$ 1.636,423

Summary statistics shown in the spreadsheet:

- Média de Rendimento: 0,50%
- Rend. Poup.: 0,50%
- Valor Dep.: R\$ 200,00

The task pane on the right shows the 'Ponto de Partida' (Starting Point) section with options to connect to Microsoft Office Online, get news, and update the web list. There is also a search box and an example search term.

13. Normalmente, o Excel cria 3 (três) planilhas (Plan1, Plan2 e Plan3), sempre que é iniciada uma nova pasta de trabalho, como mostra a figura acima. Esta quantidade de planilhas poderá ser alterada na próxima nova pasta a ser criada seguindo os passos:

- A) Menu Exibir > Personalizar modos de exibição ...
- B) Menu FERRAMENTAS > Opções ... > Guia Editar > Número de planilhas na nova pasta.
- C) Menu FERRAMENTAS > Opções ... > Guia Geral > Número de planilhas na nova pasta.
- D) Menu Exibir > Normal
- E) Menu Formatar > Planilha > Reexibir...

14. Dadas as proposições a seguir,

- I. O sufixo **.gov** significa um site governamental e **.com** um site não comercial.
- II. Uma página da *web* como: **www.fundepes.br**, possui vários endereços específicos, algumas vezes chamados de URLs.
- III. A *Internet* é um sistema que conecta milhões de computadores em todo o mundo.
- IV. A maneira mais comum de navegar pela *Web* é clicando em *links* que são representados por textos ou figuras.

verifica-se que está correto apenas o que se afirma em

- A) I e IV.
- B) II e III.
- C) I.
- D) III e IV.
- E) II, III e IV.

15. O novo recurso do Word 2003 que facilita as ações mais comuns, como aplicar formatação, abrir, salvar arquivos, mala direta, etc., é o

- A) Painel de Edição
- B) Painel de Tarefas
- C) Painel de Controle
- D) Painel de Configuração
- E) Painel de Formatação

CONHECIMENTOS ESPECÍFICOS

Baseando-se na Lei Complementar 123/2006 (Lei Geral da MPE), responda as questões de 16 a 18.

16. Acerca do Comitê Gestor de Tributação das Microempresas e Empresas de Pequeno Porte, é errado afirmar:

- A) A atualização dos valores deliberada pelo Comitê Gestor será efetivada mediante a edição de lei ordinária.
- B) Os representantes dos Estados e do Distrito Federal no Comitê referido no inciso I do caput deste artigo serão indicados pelo Conselho Nacional de Política Fazendária – CONFAZ – e os dos Municípios serão indicados, um pela entidade representativa das Secretarias de Finanças das Capitais e outro pelas entidades de representação nacional dos Municípios brasileiros.
- C) O Comitê Gestor elaborará seu regimento interno mediante resolução.
- D) Comitê Gestor de Tributação das Microempresas e Empresas de Pequeno Porte, vinculado ao Ministério da Fazenda, é composto por 2 (dois) representantes da Secretaria da Receita Federal e 2 (dois) representantes da Secretaria da Receita Previdenciária, como representantes da União, 2 (dois) dos Estados e do Distrito Federal e 2 (dois) dos Municípios.
- E) Será presidido e coordenado por um dos representantes da União.

17. Dadas as afirmações a seguir,

- I. As microempresas e as empresas de pequeno porte optantes pelo Simples Nacional não farão jus à apropriação nem transferirão créditos relativos a impostos ou contribuições abrangidos pelo Simples Nacional.
- II. As microempresas e as empresas de pequeno porte optantes pelo Simples Nacional não poderão utilizar ou destinar qualquer valor a título de incentivo fiscal.
- III. A exclusão do Simples Nacional será feita de ofício, não podendo ocorrer por opção das microempresas ou das empresas de pequeno porte.
- IV. Nas licitações públicas, a comprovação de regularidade fiscal das microempresas e empresas de pequeno porte somente será exigida para efeito de assinatura do contrato.

verifica-se que

- A) apenas a II está correta.
- B) I, II e III estão corretas.
- C) I, II e IV estão corretas.
- D) apenas II e IV estão corretas.
- E) apenas I e II estão corretas.

18. Não se inclui no regime diferenciado e favorecido previsto nesta Lei Complementar, para nenhum efeito legal, as seguintes pessoas jurídicas, exceto:

- A) A pessoa jurídica resultante ou remanescente de cisão ou qualquer outra forma de desmembramento de pessoa jurídica que tenha ocorrido em um dos 5 (cinco) anos-calendário anteriores.
- B) A pessoa jurídica que exerça atividade de banco comercial, de investimentos e de desenvolvimento, de caixa econômica, de sociedade de crédito, financiamento e investimento ou de crédito imobiliário, de corretora ou de distribuidora de títulos, valores mobiliários e câmbio, de empresa de arrendamento mercantil, de seguros privados e de capitalização ou de previdência complementar.
- C) A pessoa jurídica que participe do capital de outra pessoa jurídica.
- D) A pessoa jurídica constituída sob a forma de sociedade por ações.
- E) A pessoa jurídica constituída sob a forma de cooperativas de consumo.

19. A orientação e o atendimento ao cliente levam em consideração que

- A) saber ouvir é o princípio de uma boa comunicação.
- B) o atendimento depende de uma boa comunicação e esta está centrada na fala do atendente.
- C) devemos ouvir e responder ao cliente, mesmo que não tenhamos entendido os seus questionamentos.
- D) os clientes julgam o produto, mas não julgam o atendimento.
- E) não interessa ao atendente saber as necessidades do cliente, basta que ele realize uma boa comunicação.

20. Se considerarmos que a comunicação pode dar-se em três níveis: interdepartamental, intra-departamental e organizacional de comunicação, podemos afirmar que

- A) a utilização de uma *home-pager* para empresa é uma comunicação organizacional.
- B) um ofício do SEBRAE para a Prefeitura de Maceió é uma comunicação intra-departamental.
- C) uma reunião no setor de vendas é uma comunicação interdepartamental.
- D) uma Circular Interna (CI) do setor de núcleo de tecnologia para a Direção Financeira do SEBRAE é uma comunicação organizacional.
- E) os panfletos no Balcão SEBRAE sobre novos cursos são comunicações interdepartamentais.

21. A comunicação externa de uma organização se dá:

- A) quando o SEBRAE envia um *e-mail* para os seus colaboradores internos.
- B) quando o SEBRAE trabalha com o seu *endomarketing*.
- C) apenas pela mídia televisiva, jornalística e de rádios.
- D) quando o SEBRAE resolve conceder um patrocínio para um evento.
- E) quando a *internet* não representa um canal de comunicação externa para o SEBRAE.

- 22.** Um edital de licitação para aquisição de produtos ou serviços em organizações públicas representa
- A) um instrumento que regula as condições mínimas para os concorrentes se candidatarem.
 - B) um instrumento que é utilizado para compras superiores a R\$ 15.000,00 (quinze mil reais).
 - C) um instrumento que é utilizado para compras superiores a R\$ 5.000,00 (cinco mil reais).
 - D) um instrumento que regula as condições máximas para os concorrentes se candidatarem.
 - E) um instrumento não-obrigatório nas compras inferiores a R\$ 15.000,00 (quinze mil reais).
- 23.** Um depósito em conta corrente na conta do Colaborador do SEBRAE para cobrir despesas com viagem em forma de visita técnica é denominada
- A) pagamento de salário.
 - B) pagamento de diárias.
 - C) pagamento de custas.
 - D) pagamento de emolumentos.
 - E) pagamento de taxas de viagens.
- 24.** Não representa um princípio da movimentação de materiais:
- A) Manter fichas de controle para movimentação de materiais.
 - B) Evitar misturar materiais que mais tarde serão separados.
 - C) Priorizar sistemas em linha reta.
 - D) Respeitar segurança e ergonomia.
 - E) Padronizar sistemas e práticas de movimentação.
- 25.** No sistema de aquisição de materiais, o sistema de compras de uma organização pública necessita atender a uma seqüência lógica: levantamento das necessidades; especificações dos materiais; identificação dos materiais no catálogo oficial do Governo; cotação de preços; mapa comparativo de preços; sistema de pregão eletrônico ou presencial. Assinale a alternativa que indica os conceitos corretos sobre uma etapa específica.
- A) Especificação dos materiais define as características básicas de cada produto pretendido, como: tamanho, cor, capacidade, modelo etc., relacionando-os em ordem numérica seqüencial.
 - B) A cotação de preços efetiva a ampla pesquisa de preços de mercado na localidade na qual se pretende efetuar a compra, no mínimo em 4 (quatro) possíveis fornecedores.
 - C) O mapa comparativo de preços serve para solicitação cujo valor estimado não seja superior a R\$ 15.000,00 (quinze mil reais).
 - D) Sistema de pregão eletrônico é um sistema onde o setor de compras busca os melhores preços pela *internet*.
 - E) Cotação de preços é o processo de fechamento dos preços coletados.
- 26.** Ao ser contratado pelo setor SEBRAE/Alagoas de agronegócios, você foi convidado a participar de uma reunião onde os coordenadores dos projetos apresentam os resultados do mês, os problemas que surgiram e as metas atingidas. Sabendo que a reunião trata de uma função que monitora, acompanha, avalia e mede resultados obtidos, você deve considerar que a função administrativa em questão é
- A) o controle.
 - B) a produção.
 - C) o planejamento.
 - D) a reunião.
 - E) a coordenação.
- 27.** O processo de compras deve atender a quatro etapas básicas: (1) defina o que comprar; (2) identifique os fornecedores; (3) negocie as condições de compra; e (4) faça o pedido. Identifique o item que não representa associação com a etapa (3).
- A) Cadastro de fornecedores.
 - B) Prazo de entrega.
 - C) Qualidade.
 - D) Preço.
 - E) Condições de pagamento.
- 28.** A aquisição de materiais ou serviços em instituições governamentais, por meio de instrumento específico de edital de seleção, é conhecido como
- A) tomada de preços.
 - B) compras governamentais.
 - C) licitação.
 - D) concorrência pública.
 - E) concorrência governamental.
- 29.** Considerando uma coluna de planilha eletrônica preenchida com previsão de gastos orçamentários e supondo a existência de informações dos tipos de contas na coluna "A" e o valor financeiro na coluna "B", como deve ser feita a soma dos gastos nessa planilha?
- A) Selecione a célula imediatamente posterior à última célula preenchida pela coluna "A" e clique, no menu, o símbolo Σ (somatório) para obter o resultado.
 - B) Selecione a célula imediatamente anterior à primeira célula preenchida pela coluna "A" e clique, no menu, o símbolo Σ (somatório) para obter o resultado.
 - C) Selecione a célula imediatamente anterior à primeira célula preenchida pela coluna "B" e clique, no menu, o símbolo Σ (somatório) para obter o resultado.
 - D) Selecione a célula imediatamente posterior à última célula preenchida pela coluna "B" e clique, no menu, o símbolo Σ (somatório) para obter o resultado.
 - E) Selecione a célula imediatamente posterior à última célula preenchida pela coluna "A", digite =, clique na primeira célula, digite +, e assim sucessivamente, até a última célula antes da fórmula.

30. O SEBRAE costuma manter um sistema de parcerias com diversos atores de desenvolvimento local. Entre eles, podemos citar governos, prefeituras, universidades, instituições de fomento e de financiamento etc. Não é papel do SEBRAE nessas parcerias
- A) oferecer capacitações.
 - B) financiamento novos negócios.
 - C) execução de projetos.
 - D) realizar estudos.
 - E) coordenação de projetos.
31. A abertura de uma planilha eletrônica traz inicialmente 3 (três) pastas de trabalho. Suponha que gostaríamos de organizar as informações de despesas de 5 (cinco) setores do SEBRAE/AL em pastas diferentes. Com o objetivo de organizá-los em um único arquivo, você
- A) abriria mais 2 (duas) pastas em **editar, copiar e colar**.
 - B) abriria mais 2 (duas) pastas em **editar e colar especial**.
 - C) abriria mais 2 (duas) pastas em **arquivo e novo**.
 - D) abriria mais 2 (duas) pastas em **arquivo e célula**.
 - E) abriria mais 2 (duas) pastas em **inserir e planilha**.
32. O processo de busca refinado pela ferramenta *Google* para encontrar exatamente a frase **pequenos negócios agrícolas** deve ser procedido colocando no espaço de busca
- A) as palavras ligadas por + : pequenos+negócios+agrícolas.
 - B) a frase entre parênteses (): (pequenos negócios agrícolas).
 - C) a frase entre aspas " ": "pequenos negócios agrícolas".
 - D) as palavras ligadas por – : pequenos–negócios–agrícolas.
 - E) a frase entre chaves [] : [pequenos negócios agrícolas].
33. É considerado um instrumento que flexibiliza as relações entre institutos públicos, universidades e empresas com objetivo de viabilizar mecanismos de desenvolvimento tecnológico, propiciando uma cultura de inovação nas instituições de pesquisa e nas empresas nacionais:
- A) Lei de responsabilidade fiscal.
 - B) Lei geral da micro e pequena empresa.
 - C) Super simples.
 - D) Política industrial brasileira.
 - E) Lei da inovação.
34. Pretende tornar mais simples para o empresário pagar impostos, obter crédito, ter acesso à tecnologia, exportar, vender para o governo e se formalizar:
- A) Política industrial brasileira.
 - B) Lei geral da micro e pequena empresa.
 - C) Lei de responsabilidade fiscal.
 - D) Super simples.
 - E) Lei da inovação.
35. Conforme Manual de Feiras e Exposições do SEBRAE, na organização de um evento em formato de feira ou exposição, os três atores principais são:
- A) Montador, Planejador e Promotor.
 - B) Promotor, Organizador e Montador.
 - C) Organizador, Montador e Planejador.
 - D) Organizador, Promotor e Planejador.
 - E) Promotor, Planejador e Executor.
36. Quanto às feiras, associe o tipo com seus respectivos exemplos:
- | | |
|------------------------------------|-------------------|
| 1. Quanto à abrangência geográfica | () Bial |
| 2. Quanto à tipologia | () Comunitária |
| 3. Quanto à periodicidade | () Internacional |
- A) 3, 2, 1
 - B) 2, 1, 3
 - C) 1, 2, 3
 - D) 2, 3, 1
 - E) 1, 3, 2
37. O planejamento de uma exposição agropecuária em uma cidade de Alagoas é imprescindível para o sucesso desse evento. Dentre as várias etapas a serem observadas, as medidas preventivas e cautelares devem observar:
- A) As taxas da Prefeitura e do ECAD (Escritório Central de Arrecadação e Distribuição de Direitos Autorais) não devem ser pagas, pois se trata de evento para o desenvolvimento local.
 - B) A contratação de seguro evidencia que os expositores são os responsáveis últimos por eventuais danos físicos causados aos visitantes.
 - C) O controle de tráfego e veículos preconiza que a prefeitura deve tratar com as autoridades de trânsito local sobre as condições de controle e orientação do tráfego.
 - D) A iluminação externa e interna do evento deve ter circuitos independentes dos estandes.
 - E) A nota fiscal dos expositores deve ser emitida em nome do organizador da festa.
38. Dos relatórios gerenciais da área financeira apresentados abaixo, indique aquele que representa um controle que auxilia na visualização e compreensão das movimentações financeiras num período preestabelecido.
- A) Controle de Caixa do Movimento Realizado.
 - B) Apuração dos Resultados da Empresa.
 - C) Controle das Vendas Realizadas.
 - D) Fluxo de Caixa.
 - E) Balanço Gerencial.

39. Considerando que investimento são todas as necessidades para se iniciar um empreendimento, podemos considerar que ele se divide em fixo, pré-operacionais e capital de giro. Associe os exemplos corretos com os respectivos conceitos e assinale a alternativa que contém a seqüência correta.

1. Investimento fixo () Compras para abertura do negócio
2. Investimento pré-operacional () Imóveis
3. Capital de giro () Projeto arquitetônico

- A) 2, 1, 3
B) 3, 2, 1
C) 1, 3, 2
D) 1, 2, 3
E) 3, 1, 2

40. Considerando a atividade de locação de vídeos de uma locadora, classifique os exemplos de custos como: Fixo (F) ou Variável (V) e Direto (D) ou Indireto (I).

- () e () Custo de eletricidade da loja
() e () Custo dos vídeos comprados para venda
() e () Seguro contratado para a loja
() e () Assinatura de uma revista especializada

- A) F e I, V e D, F e I, F e D
B) V e D, V e I, F e D, F e I
C) V e I, V e D, F e I, F e I
D) F e D, F e D, F e I, F e D
E) V e I, V e D, F e I, F e D



www.copeve.ufal.br

ATENÇÃO!

É proibido o destaque desta folha com o GABARITO da sua prova, sob pena de eliminação do processo.

Gabarito do Candidato

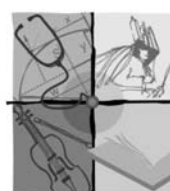
1	2	3	4	5	6	7	8	9	10	11	12	13	14	15	16	17	18	19	20	
21	22	23	24	25	26	27	28	29	30	31	32	33	34	35	36	37	38	39	40	

Este GABARITO apenas poderá ser devolvido ao candidato pelo Fiscal de Sala.

Realização:



um **novo** estado de **espírito**
45 anos



viva
UFAL
Universidade Federal de Alagoas

www.ufal.br