



Estado de Alagoas  
**MUNICÍPIO DE LIMOEIRO DE ANADIA**

**CONCURSO PÚBLICO MUNICIPAL 2013**

Cargo (Nível Fundamental Incompleto):

**30. AUXILIAR DE SERVIÇOS GERAIS, 31. COVEIRO,  
32. MERENDEIRA ESCOLAR e 33. VIGILANTE.**

Provas de Português, Matemática e  
História e Geografia de Limoeiro de Anadia

**CADERNO DE QUESTÕES**

**INSTRUÇÕES GERAIS**

1. Este **Caderno de Questões** somente deverá ser aberto quando for autorizado pelo Fiscal.
2. **Assine** neste **Caderno de Questões** e **coloque** o número do seu documento de identificação (RG, CNH, CTPS etc.).
3. **Antes de iniciar** a prova, **confira** se o **tipo** da prova do **Caderno de Questões** é o mesmo da **etiqueta da banca** e da **Folha de Respostas** de questões objetivas.
4. Ao ser autorizado o início da prova, verifique se a numeração das questões e a paginação estão corretas. Verifique também se contém **40 (quarenta)** questões objetivas com 5 (cinco) alternativas cada. Caso contrário, comunique imediatamente ao Fiscal.
5. Você dispõe de **02h30 (duas horas e trinta minutos)** para fazer esta prova. Faça-a com tranquilidade, mas **controle seu tempo**. Esse **tempo** inclui a marcação na **Folha de Respostas** de questões objetivas. Você somente poderá sair em definitivo do Local de Prova depois de decorridas **02h (duas horas)** do seu início.
6. Na **Folha de Respostas** de questões objetivas, confira seu **nome**, número do seu **documento de identificação**, **cargo escolhido** e **tipo de prova**.
7. Em hipótese alguma lhe será concedida outra **Folha de Respostas** de questões objetivas.
8. Preencha a **Folha de Respostas** de questões objetivas utilizando caneta esferográfica de tinta azul ou preta. Na **Folha de Respostas** de questões objetivas, preencha completamente o círculo correspondente à alternativa escolhida, conforme modelo: 1 

A	B	C	D	E
<input type="radio"/>	<input type="radio"/>	<input type="radio"/>	<input checked="" type="radio"/>	<input type="radio"/>
9. Será atribuído o valor ZERO à questão que contenha na **Folha de Respostas** de questões objetivas: dupla marcação, marcação rasurada ou emendada, não preenchida totalmente ou que não tenha sido transcrita.
10. A correção da prova objetiva será efetuada de forma eletrônica, considerando-se apenas o conteúdo da **Folha de Respostas** de questões objetivas.
11. Caso a Comissão julgue uma questão como sendo nula, os pontos serão atribuídos a todos os candidatos.
12. Não será permitida qualquer espécie de consulta.
13. Ao terminar a prova, **devolva** ao **Fiscal** de Sala este **Caderno de Questões**, juntamente com a **Folha de Respostas** de questões objetivas e **assine a Lista de Presença**.
14. Nas salas que apresentarem apenas 1 (um) fiscal de sala, os 3 (três) últimos candidatos somente poderão ausentar-se do recinto juntos, após a **assinatura da Ata de Encerramento** de provas.

*Boa Prova!*

Nº. do doc. de identificação (RG, CNH etc.):

Assinatura do(a) candidato(a):

PROVA TIPO

2

2013

LIMOEIRO DE  
ANADIA



FUNDEPES

## PORTUGUÊS

As questões 1 a 4 referem-se ao texto abaixo.

CIDADES/METRÓPOLE

TUTTY – HUMOR

### Manual de sobrevivência

Melhor sair de casa disfarçado para não dar na pinta que está indo ao caixa eletrônico. Com sua pior roupinha, você talvez tenha menos chance de ser confundido com alguém que está indo sacar um bom dinheiro no banco. Escolha um local movimentado para a operação, de preferência dentro de um shopping ou supermercado. Observe atentamente se não há câmaras te flagrando por cima dos ombros e nunca, mas nunca mesmo, insira seu cartão sem se certificar que a frente do painel do terminal não foi sobreposta à máquina para camuflar algum aparato de clonagem.

Não fale com estranhos nem pelo fone de comunicação do banco, procure esconder o teclado com uma das mãos enquanto digita suas senhas com a outra, não confira o dinheiro liberado para não chamar atenção para a quantia sacada, seja breve. As chances de sequestro relâmpago serão menores se o correntista bater em retirada correndo o mais que puder. Vá direto para casa e dê graças a Deus por não precisar enfrentar a fila de banco.

VASQUES, Tutty. *O Estado de São Paulo*,  
São Paulo, 1 de abr. de 2009.

1. Considerando que o texto foi publicado em um caderno de jornal ("Cidades/Metrópole") e o título da coluna ("Tutty – Humor"), assinale a opção que apresenta a intenção do autor ao produzir esse texto.

- A) Tratar com bom humor problemas ou questões relativas às cidades grandes.
- B) Explicar como a comunidade deve agir para não ser assaltada ao sacar qualquer quantia de dinheiro no caixa eletrônico.
- C) Refletir sobre questões que comumente acontecem nas cidades interioranas.
- D) Aprimorar as atitudes das pessoas desinformadas.
- E) Ajudar a todas as pessoas das grandes metrópoles a sobreviverem.

2. O título do texto é "Manual de sobrevivência". Assinale a opção que aponta a que tipo de "sobrevivência" o autor faz referência.

- A) A sobrevivência de quem jamais sai de casa disfarçado.
- B) A sobrevivência de quem tem de sacar dinheiro no caixa eletrônico.
- C) Aquela de quem anda falando com estranhos pelo celular.
- D) Aquela comum a todas as pessoas que moram nos grandes centros e cidades interioranas.
- E) A sobrevivência de quem não sabe sacar dinheiro no caixa eletrônico.

3. Assinale a opção em que todas as palavras, que foram retiradas do texto, pertencem a mesma classe gramatical.

- A) Local, operação, atentamente (1º parágrafo).
- B) Insira, certificar, aparato (1º parágrafo).
- C) Comunicação, teclado, liberado (2º parágrafo).
- D) Enquanto, para, breve (2º parágrafo).
- E) Disfarçado, pior, movimentado (1º parágrafo).

4. Dadas as afirmações seguintes, acerca da acentuação das palavras retiradas do texto,

- I. Os vocábulos "já", "está", "alguém" e "vá" foram acentuados graficamente pela mesma razão, ou seja, obedecem a mesma regra de acentuação gráfica.
- II. A palavra "eletrônico" é um exemplo de casos especiais de acentuação, podendo também ser grafada sem acento.
- III. A palavra "preferência" leva acento circunflexo por ser paroxítona terminada por ditongo oral átono.

verifica-se que

- A) apenas a afirmação I está correta.
- B) apenas a afirmação II está correta.
- C) apenas a afirmação III está correta.
- D) apenas as afirmações I e III estão corretas.
- E) I, II, III estão corretas.

As questões 5 e 6 referem-se ao texto seguinte.

### Alcoolismo

O alcoolismo é o conjunto de problemas relacionados ao consumo excessivo e prolongado do álcool. É entendido como o vício de ingestão moderada/intensa e regular de bebidas alcoólicas, e todas as consequências disto decorrentes. O alcoolismo é, portanto, um conjunto de diagnósticos. Compreende a dependência, a abstinência, o abuso (uso excessivo, porém não continuado), a intoxicação por álcool (embriaguez) e as síndromes: amnésica (perdas restritas de memória), demencial, alucinatória, delirante e de humor, e os distúrbios de ansiedade, sexuais, do sono, dentre outros.

(Taquette, Stella et alii. Mulher adolescente/jovem em situação de violência. Brasília: Secretaria Especial de Políticas para as Mulheres, 2007. RESUMOS – fragmento).

5. O texto acima mostra conceitos e consequências do alcoolismo. Das afirmações abaixo, apenas uma não condiz com as definições e classificações apresentadas. Assinale-a.

- A) A ingestão de bebidas alcoólicas acarreta a síndrome amnésica.
- B) O abuso do álcool se diferencia da dependência pela não continuidade.
- C) Demencial e alucinatória são tipos de síndromes causadas pelo alcoolismo.
- D) Conjuntos de problemas e de diagnósticos caracterizam o alcoolismo.
- E) Os distúrbios do sono são apresentados como uma das consequências do alcoolismo.

6. A expressão “É entendido”, que inicia o segundo período do texto, está relacionada a um termo anteriormente referenciado. Dentre as opções apresentadas abaixo, assinale o termo correspondente.

- A) consumo
- B) alcoolismo
- C) álcool
- D) problemas
- E) conjunto

A questão 7 refere-se ao texto abaixo.

A gente quer ter voz ativa  
No nosso destino mandar  
Mas eis que chega a roda-viva  
E carrega o destino pra lá  
Roda mundo, roda-gigante  
Roda-moinho, roda pião  
O tempo rodou num instante  
Nas voltas do meu coração

Chico Buarque

7. Qual das informações abaixo não está de acordo com o texto?

- A) A roda da vida carrega o nosso destino.
- B) Não somos donos do destino.
- C) A roda representa o movimento da vida.
- D) A passagem do tempo não se compara ao movimento da roda.
- E) Pensamos que mandamos no nosso destino.

A questão 8 refere-se à figura abaixo.



(Gazeta de Alagoas/maio/2008)

8. As palavras utilizadas na figura são

- A) pronomes e preposições.
- B) advérbios e conjunções.
- C) substantivos e adjetivos.
- D) conjunções e adjetivos.
- E) advérbios e pronomes.

As questões 9 e 10 referem-se ao texto abaixo.

Mulher proletária — única fábrica que o operário tem, (fabrica filhos) tu na tua superprodução de máquina humana forneces anjos para o Senhor Jesus, forneces braços para o senhor burguês.

Jorge de Lima

9. As palavras sublinhadas no texto são acentuadas porque são

- A) oxítonas terminadas em vogal.
- B) proparoxítonas.
- C) paroxítonas terminadas em ditongo.
- D) monossílabos tônicos.
- E) paroxítonas terminadas em vogal.

10. Se a palavra “operário” estiver no plural, a frase fica da seguinte forma:

- A) única fábrica que os operários teem.
- B) única fábrica que os operários têm.
- C) única fábrica que os operários tem.
- D) única fábrica que os operários téem.
- E) única fábrica que os operários têm.

11. Dados os fragmentos de texto abaixo,

- I. À medida que \_\_\_\_\_ e convivo com outras, valorizo mais ainda as mulheres que estão acima dos 30.
- II. Elas não se importam com o que você pensa, mas se dispõem de coração se você tiver a \_\_\_\_\_ de conversar.
- III. Você nunca precisa \_\_\_\_\_ seus pecados...
- IV. Mulheres mais velhas são diretas e \_\_\_\_\_.
- V. Hoje em dia 80% das mulheres são contra o casamento e sabem \_\_\_\_\_?

escolha a opção que preenche corretamente os espaços.

- |    | I          | II | III      | IV | V         |   |          |   |         |
|----|------------|----|----------|----|-----------|---|----------|---|---------|
| A) | envelheço  | –  | intensão | –  | confessar | – | honestas | – | por quê |
| B) | envelheço  | –  | intenção | –  | confesçar | – | onestas  | – | por quê |
| C) | envelhesso | –  | intensão | –  | confessar | – | honestas | – | porquê  |
| D) | envelheço  | –  | intenção | –  | confessar | – | honestas | – | por quê |
| E) | envelhesço | –  | intenção | –  | confeçar  | – | honestas | – | porquê  |

12. A separação das sílabas está correta na palavra

- A) a-dmi-ra-mos.
- B) in-te-re-ssan-te.
- C) in-feliz-mente.
- D) a-pan-hada.
- E) psi-ca-na-lis-tas.

As questões 13 e 14 referem-se ao texto abaixo.

### SUCO ENERGÉTICO

- 1 beterraba pequena sem casca
- 1 cenoura média sem casca
- 2/3 copo de suco de laranja

13. A palavra “energético” no título da receita acima indica que o suco é

- A) totalmente natural.
- B) destinado a atletas.
- C) para dar energia.
- D) fornecedor de muitas calorias.
- E) dietético.

14. Abaixo estão cinco versões para o modo de fazer o suco energético. Todas as versões estão corretas gramaticalmente, mas, por causa da pontuação, uma delas tem uma informação diferente das outras. Assinale-a.

- A) Bata tudo no liquidificador até obter um suco homogêneo; passe na peneira e sirva imediatamente.
- B) Bata tudo no liquidificador até obter um suco homogêneo. Passe na peneira e sirva imediatamente.
- C) Bata tudo no liquidificador, até obter um suco homogêneo; passe na peneira e sirva imediatamente.
- D) Bata tudo no liquidificador. Até obter um suco homogêneo, passe na peneira e sirva imediatamente.
- E) Bata tudo no liquidificador até obter um suco homogêneo, passe na peneira e sirva imediatamente.

15. A forma verbal em destaque na frase abaixo pode ser substituída por HÁ. Assinale a opção em que o verbo haver, no sentido de existir, está corretamente empregado.

“Para cada mulher com mais de 30 anos, estonteante, bonita, bem apanhada e sexy, existe um careca, pançudo em bermudões amarelos bancando o bobo para uma garota de 19 anos...”

- A) Todos haviam de comparecer imediatamente em juízo!
- B) Há meses não saio muito à noite, por causa dos frequentes assaltos.
- C) Por haverem dito que sabiam da origem do dinheiro, estão agora em perigo.
- D) Não haveriam outras formas de dar continuidade ao projeto?
- E) Não havia provas suficientes para convencê-lo da culpa do réu.



## MATEMÁTICA

Rascunhos

16. Qual o mínimo múltiplo comum dos números 45 e 60?

- A) 60
- B) 180
- C) 360
- D) 2.700
- E) 45

17. O valor da expressão  $9 \times 5 - 30$  é

- A) múltiplo de 3.
- B) par.
- C) divisor de 100.
- D) maior que 20.
- E) primo.

18. A soma  $\frac{5}{45} + \frac{12}{60}$  é igual a

- A)  $\frac{17}{180}$
- B)  $\frac{1}{45}$
- C)  $\frac{60}{105}$
- D)  $\frac{14}{45}$
- E)  $\frac{17}{105}$

19. A maior das frações  $\frac{1}{3}, \frac{1}{4}, \frac{1}{5}, \frac{1}{6}$  e  $\frac{1}{7}$  é

- A)  $\frac{1}{4}$
- B)  $\frac{1}{5}$
- C)  $\frac{1}{6}$
- D)  $\frac{1}{7}$
- E)  $\frac{1}{3}$

20. Segundo a página eletrônica:

<http://www.orcamentofederal.gov.br/cliping/2013/salario-minimo-em-2014-vai-subir-para-r-719-preve-ldo>, acessada em 10/08/2013, "O salário mínimo deverá saltar para R\$ 719,48 a partir de janeiro de 2014, conforme previsão da Lei de Diretrizes Orçamentárias (LDO) de 2014." Considerando que o salário mínimo do corrente ano é de R\$ 678,00, a LDO prevê um aumento no salário mínimo nacional situado entre

- A) 4% e 5%.
- B) 5% e 6%.
- C) 6% e 7%.
- D) 7% e 8%.
- E) 3% e 4%.

As questões 21 e 22 referem-se ao texto abaixo

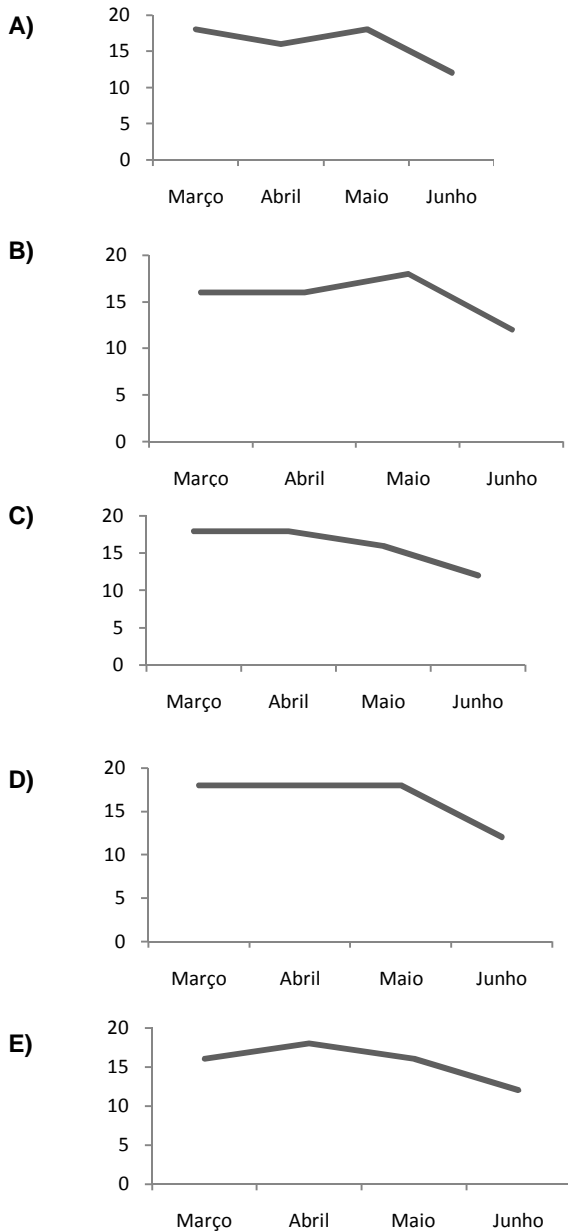
A tabela abaixo apresenta o consumo mensal de arroz dos alunos da Escola Municipal Antônio Buarque Pinheiro nos quatro últimos meses do primeiro semestre de 2013.

Mês	Consumo (kg)
Março	18
Abril	16
Maio	18
Junho	12

21. O consumo mensal médio de arroz nestes quatro meses foi de

- A) 14 kg.
- B) 15 kg.
- C) 16 kg.
- D) 18 kg.
- E) 12 kg.

22. Qual o gráfico que melhor representa o consumo mensal de arroz dos alunos em relação aos meses?



Rascunhos

23. Multiplicando-se o número 5 pelo número 13018 obtém-se o número C50B0. Neste caso, podemos afirmar que

- A)  $B - C = 5$ .
- B)  $B + C = 11$ .
- C)  $B \times C = 54$ .
- D)  $B \div C = 3$ .
- E)  $B + C = 10$ .

24. Que fração do dia representa 8 horas?

- A)  $\frac{3}{9}$  do dia
- B)  $\frac{4}{9}$  do dia
- C)  $\frac{5}{9}$  do dia
- D)  $\frac{6}{9}$  do dia
- E)  $\frac{2}{9}$  do dia

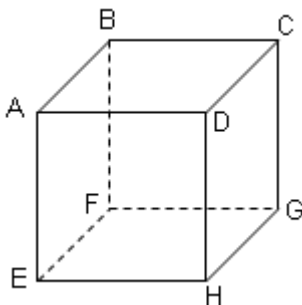
25. Um agricultor foi a uma loja comprar uma ferramenta que pagou com uma nota de R\$ 50,00. Para facilitar o troco, o caixa lhe pediu mais R\$ 10,20. O caixa então lhe devolveu R\$ 20,00 de troco. Quanto custou a ferramenta?

- A) R\$ 40,20
- B) R\$ 40,00
- C) R\$ 30,80
- D) R\$ 20,80
- E) R\$ 30,00

26. Durante 20 dias, uma pessoa gastou, em cada dia, a mesma quantia. Sabe-se que ela ganha R\$ 22,50 por dia e economizou, nesses 20 dias, R\$ 260,00. Com base nestas informações, pode-se afirmar que a sua despesa diária foi de

- A) R\$ 10,50.
- B) R\$ 10,00.
- C) R\$ 9,50.
- D) R\$ 9,00.
- E) R\$ 8,50.

27. A figura abaixo representa um cubo de aresta igual a 5 cm.

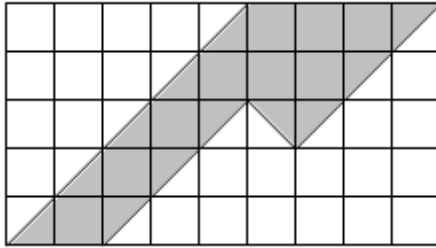


Podemos, então, afirmar que

- A) o ângulo  $\hat{A}DC$  é obtuso.
- B) o comprimento do segmento  $\overline{AB}$  é menor do que 5 cm.
- C) os segmentos  $\overline{AD}$  e  $\overline{BF}$  são paralelos.
- D) o ângulo  $\hat{F}EH$  mede  $90^\circ$ .
- E) o ângulo  $\hat{B}AD$  é agudo.

Rascunhos

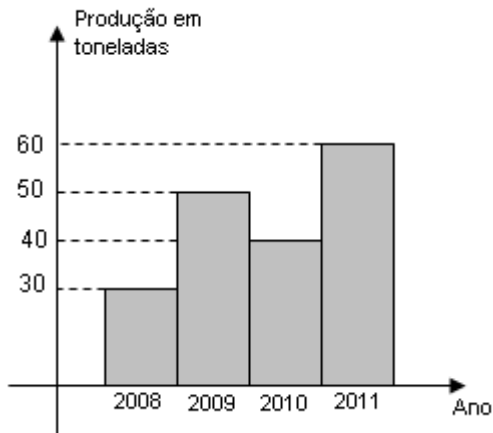
28. O retângulo abaixo foi dividido em pequenos quadrados, todos de lado igual a 1 cm.



Indique a opção que corresponde a área da região sombreada.

- A) 12 cm<sup>2</sup>.
- B) 13 cm<sup>2</sup>.
- C) 14 cm<sup>2</sup>.
- D) 15 cm<sup>2</sup>.
- E) 11 cm<sup>2</sup>.

29. A figura abaixo apresenta a produção de milho, em toneladas, de uma determinada região nos anos 2008, 2009, 2010 e 2011.



Com base nesta figura, podemos afirmar que

- A) a produção em 2008 foi 50% da produção em 2011.
- B) a produção em 2009 foi de 10 toneladas a mais do que a produção em 2008.
- C) a produção em 2008 foi maior do que a produção em 2010.
- D) a produção em 2008 foi 2/3 da produção em 2011.
- E) a produção em 2011 foi a metade da produção em 2008.

30. A fração  $\frac{201}{20}$  é igual ao número decimal

- A) 1,005.
- B) 10,0.
- C) 10,5.
- D) 10,05.
- E) 1,05.





## HISTÓRIA E GEOGRAFIA DE LIMOEIRO DE ANADIA

31. Dadas as afirmativas sobre a população do município de Limoeiro de Anadia,

- I. O município possui uma população superior a 26 mil habitantes.
- II. Apresenta forte dependência financeira de programas sociais do governo.
- III. A população do município vem diminuindo a cada ano devido ao grande êxodo rural.
- IV. O total de habitantes da população urbana é inferior ao da população rural.

verifica-se que são verdadeiras

- A) somente I e II.
- B) somente III e IV.
- C) somente II e III.
- D) I, II, III e IV.
- E) somente I e IV.

32. Dadas as afirmativas sobre a agropecuária no município de Limoeiro de Anadia,

- I. É o maior produtor de limão do estado de Alagoas.
- II. A lavoura de fumo ocupa a maior parte das terras do município.
- III. A pecuária bovina de corte e de leite convive com a presença de caprinos, ovinos e suínos.
- IV. Limoeiro de Anadia vem ganhando destaque na produção de hortaliças na região do Agreste.

verifica-se que são verdadeiras

- A) somente I e II.
- B) somente III e IV.
- C) somente II e IV.
- D) I, II, III e IV.
- E) somente I, II e III.

33. A Lagoa do Pé Leve, localizada no limite entre os municípios de Limoeiro de Anadia e Arapiraca, está inserida na Bacia Hidrográfica do Rio

- A) Jequiá.
- B) Coruripe.
- C) Pé Leve.
- D) Mundaú.
- E) Piauí.

34. Qual é o clima predominante no município de Limoeiro de Anadia?

- A) Tropical semiárido.
- B) Tropical chuvoso, com inverno seco.
- C) Subtropical úmido.
- D) Equatorial úmido.
- E) Tropical chuvoso, com verão seco.

35. Considerando a história sobre o surgimento do município de Limoeiro de Anadia, na tradição popular, é correto afirmar:

- A) refere-se ao povoamento do sertão de Alagoas através da agricultura com plantações de limão.
- B) o nome “Limoeiro de Anadia” se refere a uma história de caçadores, que quando exploravam as matas nessa região, costumavam descansar debaixo de um grande limoeiro.
- C) possui apenas a história da imagem de uma santa encontrada debaixo de uma rocha onde hoje está construída a Igreja Nossa Senhora da Conceição.
- D) foi um povoamento provocado pela criação de suínos, o que, na culinária local, combina com o limão. Daí a palavra “Limoeiro” no nome do município.
- E) refere-se à história do açúcar em Alagoas, pois no município havia uma grande quantidade de usinas.

36. Para o Instituto do Patrimônio Histórico e Artístico Nacional (Iphan), órgão do patrimônio histórico e cultural no Brasil, os patrimônios podem ser classificados de acordo com os seguintes tipos:

- I. **Material:** abrangem patrimônios arqueológicos, obras de arte, paisagísticos e edificações históricas.
- II. **Imaterial:** abrangem celebrações populares, manifestações de saberes, ofícios e modos de fazer, lugares de práticas da cultura popular como mercados, feiras e santuários.

Utilizando as classificações de patrimônios do Iphan acima descritas, podemos afirmar que, no município de Limoeiro de Anadia,

- A) a Igreja Matriz de São Sebastião é um patrimônio imaterial e a Festa de São Sebastião, por ser uma celebração religiosa, não pode ser considerada patrimônio.
- B) o Iphan é um órgão da prefeitura de Limoeiro de Anadia que classifica o patrimônio econômico do município.
- C) manifestações do folclore local, como a cavalhada ou a cultura de quilombos, não podem ser consideradas patrimônios culturais.
- D) a festa de Nossa Senhora da Conceição de Limoeiro, por ser uma celebração religiosa, é considerada patrimônio material.
- E) a Igreja Matriz Nossa Senhora da Conceição pode ser classificada como um patrimônio material, enquanto a festa de São Sebastião, presente no folclore do município, pode ser reconhecida como patrimônio imaterial.

37. Culturalmente, o município de Limoeiro de Anadia é influenciado pelas culturas do Sertão e do Agreste do Nordeste brasileiro. Historicamente, a economia desse município também é marcada pelo desenvolvimento da pecuária. Ambos aspectos influenciaram a gastronomia do município, através do consumo de comidas típicas como

- A) massas, como pizza e macarrão.
- B) pescados do litoral alagoano.
- C) charque e carne de sol.
- D) carne de sol e massas.
- E) carnes brancas, como aves e peixes.



*Rascunhos*

**38.** Sobre a localização do município de Limoeiro de Anadia no território de Alagoas, podemos afirmar que

- A) está localizado na região do sertão alagoano.
- B) está localizado na região do agreste alagoano.
- C) está localizado nos limites do estado de Alagoas com Sergipe.
- D) está localizado na região da zona da mata alagoana.
- E) está localizado nos limites do estado de Alagoas com Pernambuco.

**39.** Qual é o bioma predominante no município de Limoeiro de Anadia?

- A) Caatinga
- B) Mata Atlântica
- C) Mata das Araucárias
- D) Floresta Equatorial
- E) Campos

**40.** Fizeram parte do antigo território do município de Limoeiro de Anadia, os seguintes municípios:

- A) Anadia e Penedo.
- B) São Miguel dos Campos e Junqueiro.
- C) Junqueiro e Arapiraca.
- D) Arapiraca e Penedo.
- E) Arapiraca e São Miguel dos Campos.