



Concurso Público

Município de Porto Calvo

PROVA TIPO

1

2018

MUNICÍPIO
DE PORTO CALVO
Edital n° 01/2018




Cargo (Nível Médio – NM):

17. AGENTE DE FISCALIZAÇÃO URBANA

**Provas de Português, Raciocínio Lógico
e Conhecimentos Específicos**

CADERNO DE QUESTÕES

INSTRUÇÕES GERAIS

1. Este **Caderno de Questões** somente deverá ser aberto quando for autorizado pelo **Fiscal**.
2. Antes de iniciar a prova, confira se o tipo da prova do **Caderno de Questões** é o mesmo da etiqueta da banca e da **Folha de Respostas** de questões objetivas.
3. Ao ser autorizado o início da prova, verifique se a numeração das questões e a paginação estão corretas. Verifique, também, se contém **40 (quarenta)** questões objetivas com 5 (cinco) alternativas cada. Caso contrário, comunique imediatamente ao Fiscal.
4. O tempo disponível para esta prova é de **4 horas**. Faça-a com tranquilidade, mas **controle seu tempo**. Esse **tempo** inclui a marcação da **Folha de Respostas** de questões objetivas.
5. Você somente poderá sair em definitivo do Local de Prova depois de decorridas **2 horas** do início da aplicação.
6. Na **Folha de Respostas** de questões objetivas, confira seu nome, número do seu documento de identificação, tipo de prova e cargo escolhido.
7. Em hipótese alguma lhe será concedida outra **Folha de Respostas** de questões objetivas.
8. Preencha a **Folha de Respostas** de questões objetivas utilizando caneta esferográfica de tinta azul ou preta. Na **Folha de Respostas** de questões objetivas, preencha completamente o círculo correspondente à alternativa escolhida, conforme o modelo:

9. Será atribuído o valor ZERO à questão que contenha na **Folha de Respostas** de questões objetivas: dupla marcação, marcação rasurada, emendada ou com "X", não preenchida totalmente ou que não tenha sido transcrita.
10. A correção da prova objetiva será efetuada de forma eletrônica, considerando-se apenas o conteúdo da **Folha de Respostas** de questões objetivas.
11. Caso a Comissão julgue uma questão como sendo nula, os pontos serão atribuídos a todos os candidatos.
12. Não será permitida qualquer espécie de consulta.
13. Ao terminar a prova, **devolva** ao **Fiscal de Sala** este **Caderno de Questões**, juntamente com a **Folha de Respostas** de questões objetivas, e **assine a Lista de Presença**.
14. Na sala que apresentar apenas 1 (um) Fiscal, os 3 (três) últimos candidatos somente poderão ausentar-se da sala juntos, após a **assinatura da Ata de Encerramento** de provas.
15. **Assine** neste **Caderno de Questões** e **coloque** o número do seu documento de identificação (RG, CNH etc.).

Boa Prova!

N. do doc. de identificação (RG, CNH etc.):

Assinatura do(a) candidato(a):

PORTUGUÊS

QUESTÃO 01

Qual a alternativa que preenche corretamente as lacunas de: “___ primeiras horas da manhã, os ciganos chegavam. Deixavam ___ bagagens próximas ___ estrebarias e iam ___ casa grande da fazenda” (Rachel de Queiroz)?

- A) Às / às / às / à
- B) Às / às / às / a
- C) Às / as / às / à
- D) As / às / as / à
- E) As / as / às / à

QUESTÃO 02

POSSO FAZER HORAS **EXTRA**?



Disponível em: <http://educadoraarletevidal.blogspot.com.br/2011_09_11_archive.html>. Acesso em: 18 out. 2015.

Quanto à concordância do nome destacado na gravura, é correto dizer que

- A) se admite o singular ou o plural.
- B) o singular é que é correto, para concordar com o emissor do texto.
- C) o singular é que é correto, porque pertence à categoria adverbial.
- D) está de acordo com as normas gramaticais, uma vez que a palavra é um prefixo invariável.
- E) não está de acordo com a norma padrão, já que a palavra é um adjetivo e deve concordar com o substantivo a que se refere.

QUESTÃO 03

Lembrou-me vestir a farda de alferes. **Vesti-a, assim me aprontei de todo**; e, como estava defronte do espelho, levantei os olhos, e... **não lhes digo** nada; o vidro **então reproduziu-me** a figura integral; nenhuma linha de menos, nenhum contorno diverso.

ASSIS, Machado de. *Obra Completa*. Rio de Janeiro: Nova Aguilar, 1994. v. II.

Dos trechos destacados, em qual deles o pronome empregado viola as regras de colocação pronominal?

- A) “Vesti-a”
- B) “não lhes digo”
- C) “Lembrou-me vestir”
- D) “então reproduziu-me”
- E) “assim me aprontei de todo”

QUESTÃO 04

Para ser franco, declaro **que esses infelizes não me inspiram simpatia**. Lastimo a situação em que se acham, reconheço ter contribuído para isso, mas não vou além.

RAMOS, Graciliano. *São Bernardo*. São Paulo: M. Fontes, 1970. p. 241.

Considerando aspectos sintáticos, a oração destacada no texto é

- A) complemento nominal.
- B) complemento verbal.
- C) predicativo.
- D) sujeito.
- E) aposto.

QUESTÃO 05



Disponível em: <<http://www.bbcom.com.br/bbcom/?p=900>>. Acesso em: 30 nov. 2015.

As funções da linguagem que podem ser depreendidas da publicidade apresentada na figura são:

- I. referencial, uma vez que evidencia aos empresários as consequências de não se fazer propaganda;
- II. conativa/apelativa, uma vez que busca influenciar os empresários a investirem em propagandas;
- III. metalinguística, uma vez que usa o termo “propaganda” para falar de “propaganda”;
- IV. fática, uma vez que a sua função é testar o suporte através do qual a mensagem é veiculada;
- V. poética, uma vez que o autor, a fim de deixar o texto atraente ao interlocutor, recorre à linguagem verbal e não verbal.

Dos itens, verifica-se que estão corretos

- A) I e V, apenas.
- B) III e IV, apenas.
- C) I, II e III, apenas.
- D) II, IV e V, apenas.
- E) I, II, III, IV e V.

QUESTÃO 06

Sendo mortal e, por conseguinte, imperfeito, o homem sempre se verá como parte de uma realidade infinita que o circunda e sempre se achará em luta contra ela. Volta e meia se defrontará com a contradição constituída pelo fato de ser ele um 'eu' limitado e, ao mesmo tempo, fazer parte de um todo ilimitado.

FISCHER, Ernest. *A necessidade da arte*. Rio de Janeiro: Zahar, p. 247.

Considerando o contexto do texto, assinale a alternativa correta.

- A) Enquadra-se, pelo apelo ao entendimento, na função fática.
- B) Trata-se de uma crônica de costumes, exemplificada principalmente pelas descrições.
- C) A tonalidade lírica do texto aponta-o para uma emotividade propícia à função poética da linguagem.
- D) Por ser um texto de caráter informativo-científico, apresenta elementos da função referencial da linguagem.
- E) Apesar de ser um texto de estrutura dissertativa, o autor explora elementos constituintes de textos publicitários.

QUESTÃO 07

Ali, por entre as folhagens, existiam as ondulações felinas de um dorso negro, brilhante, marchetado de pardo; às vezes viam-se brilhar dois raios vítreos e pálidos, que semelhavam os reflexos de alguma cristalização de rocha ferida pela luz do sol.

ALENCAR, José de. *O guarani*. São Paulo: Ateliê editorial, 1999, p. 71.

Assinale a alternativa em que a reescrita do texto destacado apresenta desvio à norma culta.

- A) havia as ondulações felinas de um dorso negro.
- B) devia haver as ondulações felinas de um dorso negro.
- C) podia haver as ondulações felinas de um dorso negro.
- D) deviam haver as ondulações felinas de um dorso negro.
- E) deviam existir as ondulações felinas de um dorso negro.

QUESTÃO 08

Quanto à regência verbal, assinale a alternativa que está de acordo com a norma padrão.

- A) O estudante aspira a ser professor.
- B) Os brasileiros preferem mais futebol do que vôlei.
- C) Há empresas que não pagam salários dignos os funcionários.
- D) Uma boa parte dos motoristas desobedecem as leis de trânsito.
- E) Os servidores do município chegam cedo nos locais de trabalho.

QUESTÃO 09

Era noite e ela ainda não havia voltado. Ele fez de conta que não estava ligando, continuou assistindo à televisão como se não estivesse acontecendo nada. Olhava pela janela de vez em quando. Voltava para a frente da TV, obedecia ao controle remoto. Ficava olhando a telinha azul despencando imagens sem sentido. Havia imagens sem sentido. O controle remoto criou uma nova programação. São programas onde imagens aleatórias de desenhos animados e de comentaristas políticos se intercalam, numa corrida sem sentido. Não lhe agradava a programação da tv: são programas diferentes todos os dias, mas iguais em sua falta de objetividade. Desligou a TV, ligou o aparelho de som. Sintonizou uma rádio, para não precisar ficar trocando de CD. A música sertaneja invadiu as FMs. Ele era do tempo em que as FMs só tocavam música americana. Ou MPB. Não faz muito tempo não, até você deve se lembrar desse tempo.

Disponível em: <http://www.releituras.com/acarvalho_gata.asp>. Acesso em: 10 nov. 2017.

Considerando a regência e a concordância, dadas as reescritas com modificações dos trechos destacados,

- I. Continuou vendo a televisão.
- II. Existiam imagens sem sentido.
- III. Você deve lembrar esse tempo.

verifica-se que não apresenta(m) mudança de sentido

- A) I, apenas.
- B) III, apenas.
- C) I e II, apenas.
- D) II e III, apenas.
- E) I, II e III.

QUESTÃO 10

Na frase: "Os missionários jesuítas proclamaram com denodo a doutrina cristã na época do Brasil Colônia.", o termo destacado equivale a

- A) fé.
- B) bravura.
- C) covardia.
- D) confiança.
- E) perseverança.

QUESTÃO 11

Assinale a alternativa em que o pronome demonstrativo está empregado corretamente.

- A) Este próximo ano será melhor que esse.
- B) Aquela bolsa que você está usando pertence a mim.
- C) Olha! Quem são estes políticos que estão naquele caminhão?
- D) Viajei um dia e uma noite. Durante esta choveu e durante aquele fez sol.
- E) Há anos que não viajamos juntos. Estes tempos só nos deixaram saudades.

QUESTÃO 12

A beleza é uma obsessão contemporânea. A física. Fala-se muito de interior, mas esta é rara, como sempre foi. Quem fala muito em beleza interior é porque é feio.

PONDÉ, L. F. *A era do ressentimento*. São Paulo: Leya, 2014, p. 69.

Em geral, a afirmação do filósofo Luiz Felipe Pondé define a seguinte tese:

- A) As formas de beleza são formas obsessivas do modelo contemporânea de vida.
- B) A beleza física é a marca obsessiva do mundo de hoje.
- C) A beleza física e a interior são complementares.
- D) A beleza interior é uma ilusão subjetiva.
- E) Os feios não se importam com beleza.

QUESTÃO 13

Azulejo

Do ESPANHOL AZULEJO, que veio do árabe az zulaiju (o artigo al teve o "l" assimilado ao "z"). Zulaiju é o diminutivo de zuluj, pedras lisas. Antigamente, na Península Ibérica, os azulejos mais comuns eram de fato azuis, mas a cor não tem nada a ver com o nome azulejo. Se tivesse, existiriam "branquejos", "amarelejos", "verdejos" etc.

PIMENTA, R. *A casa da Mãe Joana*. 2. ed. Rio de Janeiro: Campus, 2002.

Segundo a norma gramatical, a concordância evita a repetição do sujeito. No texto, a forma verbal tivesse concorda com o seu sujeito, presente no período anterior. Qual é esse sujeito?

- A) "a cor"
- B) "o nome"
- C) "azulejo"
- D) "os azulejos"
- E) "Península Ibérica"

QUESTÃO 14

[...]

Operário não pode sonhar, Quinzinho, não pode. A vida não é para sonhos. Tudo realidades vivas, cruéis. A luta com a vida. [...]

A tua mãe já não chora, Quinzinho, não chora porque é forte. Já viu morrer outros filhos. Nenhum morreu como tu. Despedaçado pela máquina que te escravizava e que tu amavas.

Eu também aqui no meio dos teus amigos. Mas não vou triste. Não. Porque uma morte como a tua constrói liberdades futuras. E haverá a quem as máquinas não despedaçarão, pois as máquinas serão escravas deles, que as hão de idealizar, construir.

[...]

VEIRA, Luandino. Quinzinho. In: *A cidade e a infância*. São Paulo: Companhia das Letras, 2007. p. 87.

De acordo com as ideias retratadas no texto, dadas as afirmativas,

- I. As observações do narrador revelam o olhar crítico para uma realidade que explora o trabalhador.
- II. Mesmo diante da morte, o narrador afirma a crença em um futuro potencialmente melhor.
- III. O narrador acredita que haverá um momento em que essa relação será invertida e os seres humanos conseguirão libertar-se da posição servil em que se encontram.

verifica-se que está(ão) correta(s)

- A) II, apenas.
- B) III, apenas.
- C) I e II, apenas.
- D) I e III, apenas.
- E) I, II e III.

QUESTÃO 15

[...]

Fico na frente da televisão para aumentar o meu ódio. Quando minha cólera está diminuindo e eu perco a vontade de cobrar o que me devem eu sento na frente da televisão e em pouco meu ódio volta. Quero muito pegar um camarada que faz o anúncio de uísque. Ele está vestidinho, bonitinho, todo sanforizado, abraçado com uma loura reluzente, e joga pedrinhas de gelo num copo e sorri com todos os dentes, os dentes dele são certinhos e são verdadeiros [...]. Agora está ali, sorrindo, e logo beija a loura na boca. Não perde por esperar. [...]

FONSECA, Rubem. In: 64 contos. São Paulo: Cia. das Letras, 2004. p. 275.

No fragmento textual, encontra-se subentendida uma crítica velada aos meios de comunicação de massa. Qual é essa crítica?

- A) A crítica apresenta-se a favor de todos os valores associados ao consumo, dinheiro e satisfação pessoal.
- B) A crítica apresenta-se a favor dos valores consumistas que são divulgados pelos meios de comunicação.
- C) Critica-se o narrador por não fazer parte de algumas situações que lhe permitem satisfazer suas necessidades enquanto cidadão.
- D) Criticam-se os meios de comunicação de massa que se opõem às imagens glamourizadas, as quais fazem parte da realidade de toda a sociedade.
- E) Criticam-se as imagens glamourizadas que os meios de comunicação em massa difundem e que não correspondem à realidade da maior parte da população.

RACIOCÍNIO LÓGICO

QUESTÃO 16

Dadas as proposições,

- I. Se Josélia é médica, então ela não estudou Filosofia.
- II. Se Josélia nasceu em Pernambuco, então ela não é carioca.
- III. Se Josélia é cantora, então ela toca violão.

verifica-se que é(são) verdadeira(s)

- A) II, apenas.
- B) III, apenas.
- C) I e II, apenas.
- D) I e III, apenas.
- E) I, II e III.

QUESTÃO 17

Um agricultor resolveu plantar uma roça para consumo próprio fazendo 9 canteiros de 15 m cada e, ao longo de todos os canteiros, plantou milho a cada 50 cm. Nos canteiros, entre os pés de milho, plantou também feijão, mas alternando entre os tipos de feijão coruja e feijão bastião em canteiros diferentes. Iniciando com o canteiro de milho e feijão coruja, quantos “pés de milho”, “feijão coruja” e “feijão bastião” ele plantou, respectivamente?

- A) 270, 150 e 120
- B) 270, 155 e 125
- C) 279, 125 e 155
- D) 279, 150 e 120
- E) 279, 155 e 125

QUESTÃO 18

Miguel quer fazer uma viagem de ônibus de Pão de Açúcar a Maceió, mas terá que fazer uma parada em Arapiraca para trocar de transporte. Os ônibus A, B e C partem de Pão de Açúcar, a cada hora, na seguinte frequência: A – três vezes, B – quatro vezes e C – duas vezes. Já os ônibus D e E que fazem o trajeto Arapiraca-Maceió partem aleatoriamente. Contudo, sabe-se que, num dia, o ônibus E tem o triplo de partidas de D. Assim, chegando no ponto de ônibus em Pão de Açúcar num momento arbitrário, qual a probabilidade de se chegar a Maceió pegando o ônibus A ou o C, e o ônibus D?

- A) 41,67%
- B) 31,60%
- C) 25,00%
- D) 16,67%
- E) 13,89%

QUESTÃO 19

Ponto fixo

Em Matemática, define-se *ponto fixo* como o ponto que não é alterado por uma aplicação (função). Mais precisamente falando, se $f: \mathbb{R} \rightarrow \mathbb{R}$ é uma função, um ponto fixo de f é todo ponto x^* tal que $f(x^*) = x^*$:

Disponível em: <https://pt.wikipedia.org/wiki/Ponto_fixo>. Acesso em: 07 set. 2018.

Dadas as afirmativas a respeito de pontos fixos de funções,

- I. A função $f(x) = x^2 + 1$ não tem ponto fixo.
- II. A função $f(x) = 2x - 1$ tem dois pontos fixos.
- III. A função $f(x) = x^3 + x$ tem um único ponto fixo.

verifica-se que está(ão) correta(s)

- A) I, apenas.
- B) II, apenas.
- C) I e III, apenas.
- D) II e III, apenas.
- E) I, II e III.

QUESTÃO 20

Um jogo consiste de duas urnas A e B, a primeira delas contendo 3 esferas numeradas de 2 a 4 e a segunda contendo 4 esferas numeradas de 1 a 4, e é disputado por dois jogadores através das seguintes ações/regras:

- i) O primeiro jogador sorteia uma esfera da urna A.
- ii) O segundo jogador sorteia, de uma só vez, uma quantidade de esferas da urna B correspondente ao número da esfera sorteada em (i).
- iii) Se a soma dos números das esferas sorteadas em (ii) for par, vence o primeiro jogador; caso contrário, ganha o segundo jogador.

Dadas as afirmativas a respeito desse jogo,

- I. Se a esfera sorteada da urna A for 2, a probabilidade de vitória do primeiro jogador é menor que a do segundo.
- II. Se a esfera sorteada da urna A for 3, as probabilidades de vitória dos dois jogadores são iguais.
- III. Se a esfera sorteada da urna A for 4, a probabilidade de vitória do segundo jogador é zero.

verifica-se que está(ão) correta(s)

- A) I, apenas.
- B) II, apenas.
- C) I e III, apenas.
- D) II e III, apenas.
- E) I, II e III.

QUESTÃO 21

A prefeitura de uma cidade comprou 300 computadores para distribuir igualmente em 6 escolas que deverão renovar seus laboratórios de informática. Sabendo do propósito da compra, o fabricante dos computadores programou aleatoriamente 3 desses computadores para que seus usuários pudessem ganhar viagens para conhecer pessoalmente a fábrica da marca. Sabendo que cada escola possui 2 laboratórios de informática, qual a probabilidade de 2 computadores programados para o prêmio estarem no mesmo laboratório X de uma escola Y qualquer da cidade?

- A) 1/14950
- B) 12/299
- C) 1/16
- D) 49/299
- E) 491/1196

QUESTÃO 22

A tabela apresenta as durações das baterias de cinco modelos de celulares, em uso moderado, de acordo com os testes realizados por uma empresa avaliadora de smartphones.

Modelo	Duração
A	18 h 35
B	23 h 03
C	16 h 30
D	21 h 00
E	14 h 15

Se em um determinado instante os aparelhos dos modelos A, B, C, D e E indicam que as suas baterias estão com cargas de 60%, 50%, 70%, 60% e 100%, respectivamente, e forem mantidas as condições de uso moderado, o primeiro aparelho a descarregar é o do modelo

- A) A.
- B) B.
- C) C.
- D) D.
- E) E.

QUESTÃO 23

Considerando a sequência de pares (36,18), (93, 31) e (201,67), qual seria um possível próximo par?

- A) (44,33)
- B) (150,12)
- C) (207,100)
- D) (300,75)
- E) (507,169)

QUESTÃO 24

Dados os argumentos,

- I. a) Todos os alagoanos são hospitaleiros.
b) Geraldo é hospitaleiro.
c) Geraldo é alagoano.
- II. a) Todos os alagoanos são hospitaleiros.
b) Geraldo é alagoano.
c) Geraldo é hospitaleiro.
- III. a) Todos os maceioenses são alagoanos.
b) Existem alagoanos estudiosos.
c) Existem maceioenses estudiosos.

verifica-se que é(são) válido(s)

- A) I, apenas.
- B) II, apenas.
- C) I e III, apenas.
- D) II e III, apenas.
- E) I, II e III.

QUESTÃO 25



De quantas formas diferentes é possível rearranjar as letras da palavra "testamento" tendo a letra "o" fixada em último lugar?

- A) 30.240
- B) 302.400
- C) 362.880
- D) 3.024.000
- E) 3.628.800

CONHECIMENTOS ESPECÍFICOS

QUESTÃO 26

Assinale a placa que informa ao condutor do veículo que existe um obstáculo e que a passagem deve ser obrigatoriamente feita à direita.



QUESTÃO 27

Dados os itens referentes aos sinais de apito emitidos pelos agentes de fiscalização de trânsito,

- I. Um silvo breve significa **siga**, trânsito liberado em direção e sentido indicados pelo agente.
- II. Dois silvos breves significa um pedido para que os motoristas acendam as lanternas do veículo depois do pôr do sol.
- III. Um silvo longo significa motoristas a postos, prontos para se deslocar.

verifica-se que está(ão) correto(s)

- A) I, II e III.
- B) I e II, apenas.
- C) III, apenas.
- D) II, apenas.
- E) I, apenas.

QUESTÃO 28

Em qual das situações o condutor do veículo deverá utilizar pisca alerta?

- A) Ao trafegar sobre chuva.
- B) Ao acompanhar cortejo fúnebre ou festivo.
- C) Ao ser abordado pelo agente da autoridade de trânsito.
- D) Ao parar o veículo para embarque e desembarque de passageiro.
- E) Ao ocorrer imobilização ou situação de emergência, quando a regulamentação da via assim determinar.

QUESTÃO 29

Dadas as afirmativas sobre o Código de Trânsito Brasileiro (CTB).

- I. As disposições contidas no Código de Trânsito Brasileiro são aplicáveis a veículos e embarcações.
- II. O trânsito, em condições seguras, é um direito de todos e dever dos órgãos e entidades componentes do Sistema Nacional de Trânsito.
- III. Os órgãos e entidades de trânsito pertencentes ao Sistema Nacional de Trânsito darão prioridade em suas ações à defesa da vida, nesta incluída a preservação da saúde e do meio ambiente.

verifica-se que está(ão) correta(s)

- A) I, apenas.
- B) II, apenas.
- C) III, apenas.
- D) II e III, apenas.
- E) I, II e III.

QUESTÃO 30

Conforme disposto no Código de Trânsito Brasileiro (CTB) Lei nº 9.503/1997, será obrigatória a expedição de novo Certificado de Registro de Veículo (CRV) quando:

- I. for transferida a propriedade;
- II. houver mudança de categoria;
- III. for alterada qualquer característica do veículo;
- IV. o proprietário mudar o município de domicílio ou residência.

Dos itens, verifica-se que está(ão) correto(s)

- A) I, II, III e IV.
- B) I, II e III, apenas.
- C) II e IV, apenas.
- D) I e IV, apenas.
- E) III, apenas.

QUESTÃO 31

Dados os requisitos obrigatórios impostos aos motoristas que desejam possuir a Carteira Nacional de Habilitação (CNH) para veículos automotores,

- I. Ser penalmente imputável.
- II. Saber ler e escrever.
- III. Possuir Carteira de Identidade ou equivalente.

verifica-se que estão corretos

- A) I, II e III.
- B) II e III, apenas.
- C) I e II, apenas.
- D) III, apenas.
- E) I, apenas.

QUESTÃO 32

Sobre as normas gerais de circulação e conduta, assinale a alternativa correta.

- A) Nenhum condutor deverá frear bruscamente seu veículo, salvo por razões de segurança.
- B) Nas vias não iluminadas o condutor deve usar luz baixa, exceto ao cruzar outro veículo ou ao segui-lo.
- C) O condutor do veículo em áreas urbanas poderá fazer uso da buzina para solicitar passagem ou mudança de faixa.
- D) Crianças com idade inferior a doze anos devem, obrigatoriamente, ser transportadas nos bancos traseiros.
- E) Os condutores de motocicletas, motonetas e ciclomotores poderão circular nas vias segurando o guidom com apenas uma das mãos.

QUESTÃO 33

Conforme o CTB, considera-se infração de natureza leve:

- A) ter o veículo imobilizado na via por falta de combustível.
- B) deixar o condutor ou o passageiro de usar cinto de segurança.
- C) dirigir sem atenção ou sem os cuidados indispensáveis a segurança.
- D) estacionar nas esquinas e a menos de cinco metros do bordo do alinhamento da via transversal.
- E) deixar de guardar a distância lateral de um metro e cinquenta centímetros ao passar ou ultrapassar bicicleta.

QUESTÃO 34

Quais medidas administrativas, previstas no CTB, devem ser aplicadas pelo Agente da autoridade de trânsito ao abordar um condutor de veículo que demonstra exibições, manobras perigosas e arrancadas bruscas dentro da cidade?

- A) Advertência por escrito e multa.
- B) Multa e suspensão do direito de dirigir.
- C) Apreensão e recolhimento do veículo e do CPF.
- D) Frequência obrigatória em curso de reciclagem e multa.
- E) Remoção do veículo e recolhimento do documento de habilitação.

QUESTÃO 35

Para motociclista transitando pela contramão de direção em via de sentido único, sem o capacete de segurança, quais penalidades devem ser aplicadas pela autoridade de trânsito em Blitz da Lei Seca em conjunto com os agentes municipais de trânsito?

- A) Multa e retenção do veículo.
- B) Multa e recolhimento do veículo.
- C) Multa e suspensão do direito de dirigir.
- D) Multa e recolhimento do documento de habilitação.
- E) Multa cinco vezes e recolhimento do certificado de registro.

QUESTÃO 36

Para condução de escolares, os veículos destinados a este fim somente poderão circular nas vias com devida autorização e de acordo com o que exige a legislação, sendo obrigatório:

- A) registro como veículo de carga.
- B) inspeção mensal para verificação dos equipamentos obrigatórios e de segurança.
- C) cintos de segurança em número superior à lotação, para garantir a integridade dos que não poderão ir sentados.
- D) lanternas de luz branca, fosca ou amarela, dispostas nas extremidades da parte superior dianteira; e lanternas de luz vermelha dispostas na extremidade superior da parte traseira.
- E) pintura de faixa horizontal na cor amarela, em toda a extensão das partes laterais e traseira da carroçaria, com o dizer ESCOLAR, em preto, sendo que, em caso de veículo de carroçaria pintada na cor amarela, deverá apenas ser pintado o nome ESCOLAR, dispensando a faixa horizontal.

QUESTÃO 37

Compete aos órgãos e entidades executivos de trânsito dos Municípios, no âmbito de sua circunscrição de acordo com o Art. 24 do CTB:

- A) julgar os recursos interpostos pelos infratores.
- B) realizar o patrulhamento ostensivo, executando operações relacionadas com a segurança pública, com o objetivo de preservar a ordem, incolumidade das pessoas, o patrimônio da União e o de terceiros.
- C) executar a fiscalização de trânsito, quando e conforme convênio firmado, como agente do órgão ou entidade executivos de trânsito ou executivos rodoviários, concomitantemente com os demais agentes credenciados.
- D) vistoriar, inspecionar quanto a condições de segurança veicular, registrar, emplacar, selar a placa e licenciar o veículo, expedindo o Certificado de Registro e o Licenciamento Anual, mediante delegação do órgão federal competente.
- E) executar a fiscalização de trânsito em vias terrestres, edificações de uso coletivo e edificações privadas de uso coletivo; autuar e aplicar as medidas administrativas cabíveis, e as penalidades de advertência por escrito e multa, por infrações de circulação, estacionamento e parada previstas no CTB, no exercício regular do Poder de Polícia de Trânsito.

QUESTÃO 38

A quem compete legislar acerca de trânsito e transporte?

- A) Vereadores e senadores.
- B) À União, privativamente.
- C) Aos estados e municípios.
- D) Aos municípios, exclusivamente.
- E) Governadores e deputados federais.

QUESTÃO 39

Constitui infração gravíssima conforme o Código de Trânsito Brasileiro (CTB):

- A) deixar o condutor ou passageiro de usar o cinto de segurança.
- B) parar veículo sobre faixa de pedestres na mudança do sinal luminoso.
- C) desobedecer às ordens emanadas da autoridade competente de trânsito ou de seus agentes.
- D) dirigir ameaçando os pedestres que estejam atravessando a via pública, ou os demais veículos.
- E) deixar de dar preferência de passagem a pedestre e o veículo não motorizado que esteja atravessando a via transversal para onde se dirige o veículo.

QUESTÃO 40

Qual a velocidade mínima que deveria ser desenvolvida por um veículo que transita em uma via coletora onde não existe sinalização regulamentadora?

- A) 10 km/h
- B) 20 km/h
- C) 30 km/h
- D) 40 km/h
- E) 50 km/h

ATENÇÃO!

O candidato está **proibido** de **destacar** esta folha com o **gabarito**, sob pena de **eliminação** do processo. Somente o **Fiscal de Sala** está autorizado a fazer isso no momento da saída do candidato em definitivo do Local de Prova.

Gabarito do Candidato

1	2	3	4	5	6	7	8	9	10	11	12	13	14	15	16	17	18	19	20	
21	22	23	24	25	26	27	28	29	30	31	32	33	34	35	36	37	38	39	40	

EDITAL Nº 01/2018 – Município de Porto Calvo/AL

7.1. A COPEVE/UFAL divulgará o gabarito preliminar, juntamente com as Provas Objetivas, no endereço eletrônico: www.copeve.ufal.br, na data provável de **06/12/2018**, a partir das 21h00.

GABARITO OFICIAL

www.copeve.ufal.br

REALIZAÇÃO



www.ufal.edu.br



Você confia no resultado!

www.copeve.ufal.br



www.fundepes.br



Município de Porto Calvo - Alagoas