



PREFEITURA MUNICIPAL DE PENEDO

PROVA TIPO

4

2023

MUNICÍPIO
DE PENEDO

Edital nº 01/2020



FUNDEPES
Fundação Universitária de Desenvolvimento
de Extensão e Pesquisa

Cargo (**Nível Médio – NM**):

29. AGENTE DE SAÚDE EM ENDEMIAS

Provas de Português, Raciocínio Lógico
e Conhecimentos Específicos

CADERNO DE QUESTÕES

INSTRUÇÕES GERAIS

1. Este **Caderno de Questões** somente deverá ser aberto quando for autorizado pelo(a) Fiscal.
2. Antes de iniciar a prova, confira se o tipo da prova do **Caderno de Questões** é o mesmo da etiqueta da banca e da **Folha de Respostas** de questões objetivas.
3. Ao ser autorizado o início da prova, verifique se a numeração das questões e a paginação estão corretas. Verifique, também, se contém **40 (quarenta)** questões objetivas com 5 (cinco) alternativas cada. Caso contrário, comunique imediatamente ao(a) Fiscal.
4. O tempo disponível para esta prova é de **3h (três horas)**. Faça-a com tranquilidade, mas **controle seu tempo**. Esse **tempo** inclui a marcação da **Folha de Respostas** de questões objetivas.
5. Você somente poderá sair em definitivo do Local de Prova depois de decorridas **2h (duas horas)** do início da aplicação.
6. Na **Folha de Respostas** de questões objetivas, confira seu nome, número do seu documento de identificação, tipo de prova e cargo escolhido.
7. Em hipótese alguma lhe será concedida outra **Folha de Respostas** de questões objetivas.
8. Preencha a **Folha de Respostas** de questões objetivas utilizando caneta esferográfica de tinta azul ou preta. Na **Folha de Respostas** de questões objetivas, preencha completamente o círculo correspondente à alternativa escolhida, conforme o modelo:

	A	B	C	D	E
1	<input type="radio"/>	<input type="radio"/>	<input type="radio"/>	<input checked="" type="radio"/>	<input type="radio"/>
9. Será atribuído o valor ZERO à questão que contenha na **Folha de Respostas** de questões objetivas: dupla marcação, marcação rasurada, emendada ou com "X", não preenchida totalmente ou que não tenha sido transcrita.
10. A correção da prova objetiva será efetuada de forma eletrônica, considerando-se apenas o conteúdo da **Folha de Respostas** de questões objetivas.
11. Caso a Comissão julgue uma questão como sendo nula, os pontos serão atribuídos a todos(as) os(as) candidatos(as).
12. Não será permitida qualquer espécie de consulta.
13. Ao terminar a prova, **devolva** ao(à) **Fiscal** de Sala este **Caderno de Questões**, juntamente com a **Folha de Respostas** de questões objetivas, e **assine a Lista de Presença**.
14. Na sala que apresentar apenas 1 (um/uma) Fiscal, os(as) 3 (três) últimos(as) candidatos(as) somente poderão ausentar-se da sala juntos, após a **assinatura da Ata de Encerramento** de provas.
15. **Assine** este Caderno de Questões e **coloque** o número do seu documento de identificação (RG, CNH etc.).

N. do doc. de identificação (RG, CNH etc.):

Assinatura do(a) candidato(a):



COPEVE
UNIVERSIDADE FEDERAL DE ALAGOAS

PORTUGUÊS**QUESTÃO 01**

Disponível em: <<https://www.google.com/search?q=Valorize+seu+talento>>. Acesso em: 04 jan. 2023.

A respeito da oração: “*Nunca desista de sua música!*”, dadas as afirmativas,

- I. A oração foi estruturada a partir da intenção de alterar ou orientar o comportamento do destinatário.
- II. Observa-se, na oração, o uso da metalinguagem, uma vez que as palavras se organizam para explicar as próprias palavras.
- III. Há, na frase verbal, a função denotativa. O emissor deseja passar uma informação ao receptor e essa mensagem está centrada no referente.
- IV. Nesse contexto, fica evidente o uso da função conativa, em que o destinatário é invocado pelo pronome de tratamento (você) e verbo no imperativo (desista), responsável pelo caráter e tom da mensagem.

verifica-se que estão corretas

- A) I e III, apenas.
- B) I e IV, apenas.
- C) II e III, apenas.
- D) II e IV, apenas.
- E) I, II, III e IV.

QUESTÃO 02**1984 – Guerra**

“E todo o tempo, para que não persistissem dúvidas, quanto à realidade oculta pela lengalenga especiosa de Goldstein, _____ por trás de sua cabeça, na teletela, infundas colunas do exército eurasiático – fileiras após fileiras de homens sólidos com rostos asiáticos, sem expressão, que _____ até a superfície da placa e sumiam, para ser seguidos por outros exatamente idênticos. O ritmo cavo e monótono das botas dos soldados _____ uma cortina sonora para os balidos de Goldstein.”

George Orwell. 1984. SP, Cia Ed. Nacional, 2004, p. 15.

Assinale a alternativa cujas formas verbais completam, respectivamente, as lacunas do texto, compondo a concordância dos elementos nos períodos.

- A) marchou – vieram – formou-se
- B) marchará – viriam – formariam
- C) marchava – vinha – formavam
- D) marcharia – vinham – formavam
- E) marchavam – vinham – formava

QUESTÃO 03

[...]

Quando Narciso nasceu, a sua mãe consultou o adivinho Tirésias que lhe predisse que Narciso viveria muitos anos desde que nunca se conhecesse a si mesmo. Narciso cresceu tornando-se cada vez mais belo e todas as moças e ninfas queriam o seu amor, mas ele desprezava a todas. Certo dia, enquanto Narciso descansava sob as sombras do bosque, a ninfa Eco apaixonou-se por ele. Porém tendo-a rejeitado, as ninfas jogaram-lhe uma maldição: – Que Narciso ame com a mesma intensidade, sem poder possuir a pessoa amada. Némesis, a divindade punidora, escutou e atendeu ao pedido.

Naquela região havia uma fonte límpida de águas cristalinas da qual ninguém se havia aproximado. Ao se inclinar para beber água da fonte, Narciso viu a sua própria imagem refletida e encantou-se com a sua visão. Fascinado, Narciso ficou a contemplar o lindo rosto, com aqueles belos olhos e a beleza dos lábios, apaixonou-se pela imagem sem saber que era a sua própria imagem refletida no espelho das águas. [...]

Disponível em: <<https://oentardecer.blogspot.com/2012/01/a-paixao-por-si-proprio-385012.html>>. Acesso em: 04 jan. 2023.

Dadas as afirmativas a respeito da tipologia textual e dos elementos que a compõem,

- I. Trata-se de um texto narrativo, no qual o falante (narrador) se posiciona como um recontador de histórias, ou seja, ele reproduz uma história que ouviu, mas não presenciou. E esse recurso é bastante comum na narração de lendas, fábulas e mitos.
- II. A expressão “*Certo dia*”, presente no primeiro parágrafo, indica tempo e situa o fato narrado num tempo remoto, no tempo dos deuses, dos heróis mitológicos.
- III. No texto, o autor recorre a argumentos que são sustentados por experiências pessoais ou conhecimentos alheios aos quais podemos atribuir valor indiscutível: a beleza de Narciso.
- IV. Embora se trate de um texto narrativo, o autor recorre muitas vezes à descrição, acentuando, dessa forma, o caráter mítico da narrativa.

verifica-se que está(ão) correta(s)

- A) III, apenas.
- B) IV, apenas.
- C) I, II e III, apenas.
- D) I, II e IV, apenas.
- E) I, II, III e IV.

QUESTÃO 04



Disponível em: <<https://encrypted-tbn0.gstatic.com/images>>. Acesso em: 04 jan. 2023.

Dadas as afirmativas, considerando a imagem acima,

- I. A imagem apresenta uma ambiguidade devido ao emprego de vocábulos homônimos.
- II. A ambiguidade obtida, na imagem, é devido ao emprego de vocábulos com a mesma etimologia e que se relacionam em termos de ideia.
- III. Há, no contexto, uma semelhança sonora entre o substantivo e o verbo quando se faz a leitura do substantivo como verbo.
- IV. O uso de palavras parônimas torna o contexto ambíguo.

verifica-se que está(ão) correta(s) apenas

- A) II, III e IV.
- B) I, III e IV.
- C) II e IV.
- D) I e III.
- E) I.

QUESTÃO 05

Assinale a alternativa cujo texto tem sentido preciso, não apresentando ambiguidade estrutural.

- A) "Como diminuir a barriga após os 50 anos em casa."
- B) "Dupla sertaneja recusou fortuna para cantar com Roberto Carlos."
- C) "Carros ficam submersos em garagem de condomínio de luxo em Teresina."
- D) "Fiscalização apreende 650 kg de produtos impróprios para o consumo na parte alta de Maceió."
- E) "Os PMs disseram que, depois de uma denúncia anônima, abordaram os criminosos armados, houve confronto e os bandidos acabaram mortos."

QUESTÃO 06

Tudo indica que a última das preocupações dos brasileiros nas próximas semanas será o trânsito, como efeito das tentativas de contenção da epidemia de coronavírus. Muita gente vai gastar menos tempo nos seus deslocamentos ou nem vai se deslocar. Dá para aproveitar esse ganho de tempo debatendo um aspecto curioso e perverso da mobilidade urbana: a regulamentação do trânsito de táxis e de carros que atendem por aplicativo. Quem sabe, quando a tempestade passar, possamos encontrar solução pelo menos para alguns pequenos problemas que tornam infame a vida nas grandes cidades.

Diferentemente do que reza o senso comum, táxis não contribuem para a redução dos congestionamentos porque seus usuários teoricamente deixam o carro em casa. Pelo contrário, tanto eles quanto os veículos chamados por aplicativos pioram as condições de trânsito [...]. Mas, completando a obra caótica, poluidora, enervante, barulhenta e insalubre que o tráfego de veículos realiza a cada dia nas metrópoles, o transporte público individual é também, por natureza, elemento de discriminação econômica e social – drama que se agrava ainda mais nos municípios que têm faixas de uso exclusivo para ônibus e permitem que táxis transitem nesses espaços.

Disponível em: <<https://veja.abril.com.br/blog/marcos-emilio-gomes/taxi-e-uber-agravam-injusticas-no-mundo-da-mobilidade/>>. Acesso em: 04 jan. 2023.

Dentre os fragmentos, o autor vale-se de uma declaração, com um operador argumentativo que significa oposição, restrição, ressalva, ao afirmar que

- A) "...Pelo contrário, tanto eles quanto os veículos chamados por aplicativos pioram as condições de trânsito [...]".
- B) "...o transporte público individual é também, por natureza, elemento de discriminação econômica e social...".
- C) "...táxis não contribuem para a redução dos congestionamentos porque seus usuários teoricamente deixam o carro em casa".
- D) "...a última das preocupações dos brasileiros nas próximas semanas será o trânsito, como efeito das tentativas de contenção da epidemia de coronavírus".
- E) "...quando a tempestade passar, possamos encontrar solução pelo menos para alguns pequenos problemas que tornam infame a vida nas grandes cidades".

QUESTÃO 07

Depois de décadas de debate, a Organização Mundial da Saúde (OMS) incluiu, no ano passado, o vício em jogo eletrônico em sua Classificação Internacional de Doenças. Pela nova definição, a primeira pista de que algo está errado é quando o usuário eleva o nível de prioridade dos games a ponto de prejudicar aspectos de sua vida pessoal, a convivência com amigos e família, tarefas acadêmicas e ocupacionais — algo que lembra outros vícios, como álcool ou drogas. O padrão deve ser contínuo por no mínimo um ano para que o diagnóstico seja feito, dizem as regras da OMS, que estima em, no mínimo, 60 milhões o número de pessoas que sofrem com a falta de controle sobre o tempo que passam jogando. Esse número representa 3% dos 2 bilhões de usuários de videogames no mundo. “O dependente vai secando. Ele faz menos coisas, seu repertório diminui, seu universo existencial vai aos poucos se limitando ao objeto de dependência. Ele deixa de sair com os amigos, de jantar com a família, tranca a faculdade”, disse Aderbal Vieira Júnior, psiquiatra que coordena o ambulatório de dependência de comportamento do Programa de Orientação e Atendimento a Dependentes da Universidade Federal de São Paulo (Unifesp).

Disponível em: <<https://epoca.globo.com/sociedade/os-efeitos-do-vicio-em-jogos-eletronicos-24301523>>. Acesso em: 14 jan. 2023.

De acordo com as informações contidas no texto, compreende-se que

- A) a descoberta de que a compulsão de todos os dependentes é devido à desordem dos videogames.
- B) a aprovação de uma nova legislação para colocar limites à indústria dos desenvolvedores de games está iminente.
- C) o vício em jogos eletrônicos foi incluso, pela Organização Mundial da Saúde (OMS), na Classificação Internacional de Doenças.
- D) a decisão da Universidade Federal de São Paulo, em incluir distúrbios comportamentais no manual de Classificação de Doenças, foi vista internacionalmente.
- E) a compulsão, já classificada como um tipo de doença pela Universidade Federal de São Paulo (Unifesp), afeta a vida de milhões de pessoas, no Brasil e no restante do mundo.

QUESTÃO 08

Disponível em: <<https://encrypted-tbn0.gstatic.com/images>>. Acesso em: 04 jan. 2023.

A formulação da imagem e a linguagem textual sugerem que se tome o texto como um(a)

- A) proposta de sentido fechada a várias interpretações.
- B) processo comunicativo em que divergem atitudes linguísticas, sociais e cognitivas.
- C) processo que pode ser visto como evento comunicativo emergente, um artefato ou produto.
- D) processo comunicativo em que convergem ações linguísticas e sociais com o intuito de problematizar a psicanálise.
- E) processo comunicativo em que convergem ações linguísticas e contexto social sem o intuito de interpretar representações mentais.

QUESTÃO 09



O uso das vírgulas na fala do segundo quadro "... viajar, treinar, aprender..." ocorre para

- A) separar vocativo.
- B) realçar adjunto adverbial em ordem natural.
- C) separar oração explicativa ou circunstancial.
- D) separar adjunto adverbial anteposto temporal.
- E) separar orações ou termos coordenados, sem conectivos.

QUESTÃO 10

A carteira

...De repente, Honório olhou para o chão e viu uma carteira.

Abaixar-se, apanhá-la e guardá-la foi obra de alguns instantes.

Ninguém o viu, salvo um homem que estava à porta de uma loja, e que, sem o conhecer, lhe disse rindo:

— Olhe, se não dá por ela; perdia-a de uma vez.

— É verdade, concordou Honório envergonhado.

[...]

Contos - Machado de Assis. SP, Ciranda Cultural Editora, p. 15. Fragmento.

Dadas as afirmativas quanto às informações e à estrutura gramatical do texto,

- I. A forma verbal "Abaixar-se" constitui-se um exemplo de voz reflexiva do verbo.
- II. O pronome oblíquo "o" presente em "o viu" e em "o conhecer" indica casos de ênclise pronominal.
- III. Nas formas verbais "apanhá-la" e "guardá-la", as formas pronominais têm como referente único o termo "carteira" presente no período anterior.
- IV. A expressão "à porta" recebe o acento grave por ser uma expressão adverbial.

verifica-se que está(ão) correta(s)

- A) I, II, III e IV.
- B) I, III e IV, apenas.
- C) III e IV, apenas.
- D) I e II, apenas.
- E) II, apenas.

QUESTÃO 11

Moeda

Do latim moneta.

Juno, a deusa romana mais adorada, era irmã e esposa de Júpiter, o maior dos deuses. Era conhecida como Juno Regina (Juno Rainha) e por outros sobrenomes dependendo da sua área de atuação: protegia as mulheres, os partos, os casamentos e a vida social e moral. Enfim, uma superdeusa. Um de seus sobrenomes ela recebeu após chamar a atenção dos romanos para um ataque noturno dos gauleses: Juno Moneta (do latim monere, advertir). O sinal foi dado pelos gansos que viviam ao redor do templo de Juno no monte Capitolino. Foi lá que os romanos instalaram sua casa da moeda. Em 269 a. C., cunharam uma moeda de prata, chamada denariu (daí dinheiro), com a imagem da deusa e seu sobrenome, Moneta. Pronto, para os romanos moneta passou a significar moeda.

Foi daí também que veio o inglês money.

Reinaldo Pimenta. *A casa da mãe Joana*. RJ, Campos, 2002.

As duas ocorrências dos dois-pontos no texto têm como função a suspensão do discurso para

- A) anunciar uma citação.
- B) justificar um argumento.
- C) detalhar uma informação.
- D) apresentar uma conclusão.
- E) reproduzir o discurso alheio.

QUESTÃO 12

Dias de abandono

Durante a tarde procurei o telefone do veterinário, [...]

Na salinha havia várias pessoas na espera, algumas com cachorro, outras com gato, até uma mulher de uns trinta anos que tinha no colo um coelho preto e o acariciava continuamente com um movimento mecânico da mão. **Eu passei o tempo estudando um mural** com propostas de acasalamento entre animais de nobre estirpe alternadas com descrições detalhadas de cães e gatos desaparecidos. **De vez em quando chegava gente em busca de notícias** de um animal amado: um perguntava do gato internado para exames, outro do cachorro que fazia quimioterapia, uma senhora sofre pelo seu poodle em agonia. **Naquele lugar a dor atravessava o frágil limiar do humano** e expandia-se sobre o vasto mundo dos animais domésticos.

Elena Ferrante. *Dias de abandono*. SP, Biblioteca Azul, 2016, p. 153. (adaptado).

Das expressões destacadas no texto, assinale a alternativa que se encontra na ordem sintática direta do português.

- A) "Eu passei o tempo estudando um mural..."
- B) "Na salinha havia várias pessoas na espera, ..."
- C) "Durante a tarde procurei o telefone do veterinário, ..."
- D) "De vez em quando chegava gente em busca de notícias..."
- E) "Naquele lugar a dor atravessava o frágil limiar do humano..."

QUESTÃO 13

Nos tempos atuais, em que reinam de forma absoluta as redes sociais, eis que muitos jovens dizem ter descoberto uma forma criativa de quebrar a rotina: escrever cartas como se fazia no passado. Isso significa que eles abandonaram de vez as conexões tecnológicas? Deram um solene adeus às plataformas digitais? Não, a coisa também não é bem assim, não chega a esse ponto — até porque muitos deles, em todo o País, postam as correspondências, que escrevem e recebem, em seus respectivos canais.

Mais: valem-se da internet para reunir orientações de como se deve escrever uma carta. Ou seja, como é o padrão dessa tendência: é de bom tom, em primeiro lugar, cumprimentar educadamente o destinatário, e, imediatamente, apresentar-se sem esquecer de colocar idade, endereço, ocupação principal na vida e quais as atividades nos momentos de descanso e descontração. A internet ajuda também a descobrir quem está disposto a receber e a escrever. Apesar do auxílio das ferramentas tecnológicas, é inegável, no entanto, que há algo de inovador transitando no território brasileiro. E inspirado numa das mais antigas formas de comunicação.

Disponível em: <<https://istoe.com.br/bem-tracadas-linhas/>>. Acesso em: 06 jan. 2023.

Dadas as afirmativas segundo os mecanismos de coesão semântica,

- I. As expressões “conexões tecnológicas”, “plataformas digitais” e “redes sociais” são exemplos de emprego de sinonímia, já que mantêm equivalência de significado.
- II. O vocábulo “internet” é um hipônimo, uma vez que tem com a expressão “redes sociais” uma relação do tipo está contido/contém.
- III. Nesse fragmento textual, os termos “cartas”, “correspondências” e “formas de comunicação” evidenciam o emprego de repetição lexical.

verifica-se que está(ão) correta(s)

- A) I, apenas.
- B) III, apenas.
- C) I e II, apenas.
- D) II e III, apenas.
- E) I, II e III.

QUESTÃO 14

Fácil falar. Ficar sem encostar no rosto é uma das recomendações mais difíceis de seguir. E esse não é um problema só entre a população “comum” – nem mesmo os especialistas e autoridades conseguem seguir o hábito à risca. Uma pesquisa feita em uma faculdade de medicina da Austrália verificou que os estudantes tocam o rosto, em média, 23 vezes durante uma aula de uma hora, ou uma vez a cada 2,5 minutos.

Mas por que é tão difícil ficar sem tocar no rosto? A prática parece contraintuitiva. Se o simples fato de tocar o rosto transmite milhares de germes para dentro do corpo, a seleção natural não deveria ter excluído esse hábito? [...]

Disponível em: <<https://super.abril.com.br/saude/coronavirus-por-que-e-tao-dificil-ficar-sem-tocar-o-rosto/>>. Acesso em: 04 jan. 2023.

Dadas as afirmativas acerca dos elementos coesivos presentes no fragmento textual,

- I. Em “E **esse** não é um problema só entre a população...”, o pronome em destaque trata-se de uma referência anafórica, já que o referente foi mencionado anteriormente.
- II. A oração “– **nem mesmo** os especialistas e autoridades conseguem seguir o hábito à risca” evidencia que há um introdutor de pressuposto, especialmente representado pela expressão denotativa “nem mesmo”, (parte-se de um pressuposto: o que vai ser demonstrado é o óbvio).
- III. Em “Mas por que é tão difícil ficar sem tocar no rosto?”, há um conector coesivo que contém noção semântica de conclusão.

verifica-se que está(ão) correta(s)

- A) I, apenas.
- B) II, apenas.
- C) III, apenas.
- D) I e II, apenas.
- E) I, II e III.

QUESTÃO 15

A Cinza das Horas

Desencanto

Eu faço versos como quem chora

De desalento... de desencanto...

Fecha o meu livro, se por agora

Não tens motivo nenhum de pranto.

Meu verso é sangue. Volúpia ardente...

Tristeza esparsa... remorso vão...

Dói-me nas veias. Amargo e quente,

Cai, gota a gota, do coração.

E nestes versos de angústia rouca,

Assim dos lábios a vida corre,

Deixando um acre sabor na boca.

– Eu faço versos como quem morre.

Disponível em: <<https://www.pensador.com/frase/MzIzNTQ5/>>. Acesso em: 12 jan. 2023.

No poema de Manuel Bandeira, tem-se a ocorrência da função poética da linguagem, que é percebida nas combinações sonoras e rítmicas. Ao analisar o texto, entretanto, percebe-se também a presença da função expressiva. Em quais dos versos essa função se manifesta?

- A) “Meu verso é sangue. Volúpia ardente...” / “Tristeza esparsa... remorso vão...”
- B) “Eu faço versos como quem chora” / “Meu verso é sangue. Volúpia ardente...”
- C) “Deixando um acre sabor na boca.” / “– Eu faço versos como quem morre.”
- D) “Fecha o meu livro, se por agora” / “Não tens motivo nenhum de pranto”
- E) “Eu faço versos como quem chora” / “Fecha o meu livro, se por agora”

RACIOCÍNIO LÓGICO

QUESTÃO 16

Um pai costuma dar moedas de R\$ 0,50 e R\$ 1,00 a seus dois filhos. As de R\$ 0,50 ele dá ao menor, e as de R\$ 1,00 ele dá ao maior. Visando orientar as crianças para uma educação financeira, o pai comprou dois cofres, um para cada criança, informando-os que eles poderiam juntar suas moedas nos cofres. A partir daí, os dois começaram, no mesmo dia, a juntar suas moedas no cofre da seguinte maneira: o menor começou com dez moedas e passou a colocar quatro moedas a cada dia, e o maior começou com uma moeda e passou a colocar três moedas a cada dia. No dia em que os dois tiverem a mesma quantia nos seus cofres, eles terão juntos a quantia de

- A) R\$ 44,00.
- B) R\$ 26,00.
- C) R\$ 22,00.
- D) R\$ 14,00.
- E) R\$ 13,00.

QUESTÃO 17

Dada a equação “ $8 A B \times 4 + \sqrt{16} = C$ ”, qual alternativa contém os valores que substituem, respectivamente, A, B e C, de forma que a equação seja verdadeira?

- A) +, 2 e 44
- B) +, 2 e 80
- C) -, 2 e 48
- D) -, 3 e 0
- E) -, 3 e 24

QUESTÃO 18

João é um guia turístico em uma agência de turismo na cidade de Penedo, que possui mais seis guias além dele. O gerente da agência precisa selecionar, aleatoriamente, três guias para atender um grupo de turistas que está chegando para visitar a cidade. Qual a probabilidade de que João seja selecionado?

- A) $\frac{1}{7}$
- B) $\frac{2}{7}$
- C) $\frac{1}{3}$
- D) $\frac{3}{7}$
- E) $\frac{1}{2}$

QUESTÃO 19

Assinale a alternativa que apresenta a negação lógica da frase “Nem todos os veículos que passam no centro histórico pegam a balsa”.

- A) Algum veículo que passa no centro histórico pega a balsa.
- B) Nenhum veículo que passa no centro histórico pega a balsa.
- C) Algum veículo que passa no centro histórico não pega a balsa.
- D) Nenhum veículo que passa no centro histórico não pega a balsa.
- E) Todos os veículos que passam no centro histórico não pegam a balsa.

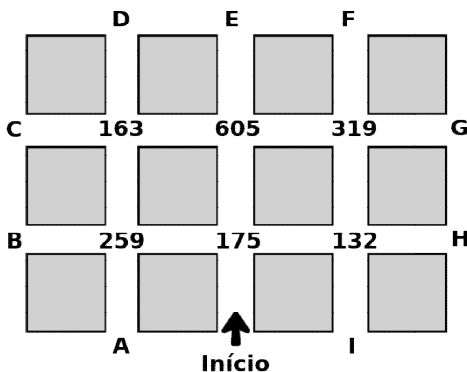
QUESTÃO 20

Considerando que os símbolos \neg , \wedge , \vee , \rightarrow e \leftrightarrow representam negação, conjunção, disjunção, implicação e bimplicação, respectivamente, qual das alternativas apresenta uma tautologia?

- A) $P \wedge Q \wedge R$
- B) $P \vee Q \leftrightarrow R \vee S$
- C) $P \vee Q \leftrightarrow R \wedge S$
- D) $P \vee Q \vee R \rightarrow S$
- E) $P \vee Q \vee R \vee \neg S \vee \neg P$

QUESTÃO 21

Um professor propôs uma caça ao tesouro para seus alunos. As dicas seriam dadas a cada cruzamento de ruas, através de um número pintado no chão. Se esse número fosse primo, deveriam seguir em frente até o próximo cruzamento. Se fosse divisível por 11, deveriam virar à esquerda. Se fosse divisível por 7, deveriam virar à direita. A figura representa as ruas e os números pintados pelo professor.



Se os alunos partirem do ponto marcado como “início”, e as letras de “A” a “I” representarem os possíveis pontos de chegada, a letra referente à localização do tesouro escondido será

- A) B ou I.
- B) I ou D.
- C) A ou G.
- D) C ou F.
- E) E ou H.

QUESTÃO 22

Dadas as premissas “Todo penedense é alagoano”, “Nem toda pessoa feliz é alagoana” e “Maria é penedense”, é possível concluir corretamente que

- A) Alguém feliz não é penedense.
- B) Algum penedense é infeliz.
- C) Algum alagoano é feliz.
- D) Maria é infeliz.
- E) Maria é feliz.

QUESTÃO 23

Para ornamentar uma praça, um prefeito decide colocar, em seu centro, um monumento em formato de pirâmide com seis arestas congruentes de dois metros cada uma. Qual o volume, em m^3 , ocupado por esse monumento?

- A) $\frac{2\sqrt{2}}{3}$
- B) $\frac{2\sqrt{6}}{3}$
- C) $\sqrt{3}$
- D) $3\sqrt{3}$
- E) $4\sqrt{3}$

QUESTÃO 24

A sentença propõe uma relação de desigualdade entre cinco elementos.

$$\frac{\sqrt{8}}{2} < \boxed{x} < \frac{924}{396} < \textcircled{y} < \frac{847}{231}$$

Assinale a alternativa que preenche, respectivamente, os espaços x e y da sentença.

- A) $2\sqrt{2}$ e $2\sqrt{3}$
- B) $\sqrt{3}$ e $2\sqrt{5}$
- C) $\sqrt{3}$ e $2\sqrt{2}$
- D) $3/8$ e $2\sqrt{5}$
- E) $3/8$ e $2\sqrt{3}$

QUESTÃO 25

Considerando a tabela verdade da fórmula $Q \wedge T \rightarrow W \vee S$, é possível concluir corretamente que

- A) apenas 7 são satisfáveis, de todas as interpretações.
- B) a fórmula é insatisfável e falsificável, ou seja, uma contradição.
- C) o predicado T ter valor verdadeiro garante que a fórmula seja verdadeira.
- D) a fórmula é uma tautologia, ou seja, as interpretações são sempre satisfáveis.
- E) a fórmula é sempre verdadeira nas interpretações na qual o predicado Q é falso.

CONHECIMENTOS ESPECÍFICOS

QUESTÃO 26

A tabela mostra o registro de casos de leptospirose em 2019 no Brasil.

Casos confirmados de Leptospirose. Brasil, Regiões e Unidades Federadas (residência) por mês de início de sintoma (2019*)						
Região						
Mês	Norte	Nordeste	Sudeste	Sul	Centro-Oeste	Brasil
Jan	30	23	116	214	10	393
Fev	50	36	153	206	11	456
Mar	62	58	179	151	5	455
Abr	51	99	137	126	6	419
Mai	56	62	98	171	8	395
Jun	38	70	70	137	8	323
Jul	32	70	45	44	1	192
Ago	31	70	42	33	4	180
Set	26	38	44	54	5	167
Out	32	19	31	69	4	155
Nov	38	14	37	72	3	164
Dez	10	8	16	24	1	59

Atualizado em 27/01/2020
*Dados preliminares sujeitos à atualização

Fonte: Ministério da Saúde.

Nota-se que há um aumento significativo nos números de registros, especialmente, durante o período conhecido como “quadra chuvosa”, nos meses entre março e junho. Esses números são mais notáveis nas regiões sul e sudeste do país, que são consideradas para tal enfermidade como áreas

- A) de surto.
- B) endêmicas.
- C) pandêmicas.
- D) de risco absoluto.
- E) de fonte de infecção.

QUESTÃO 27

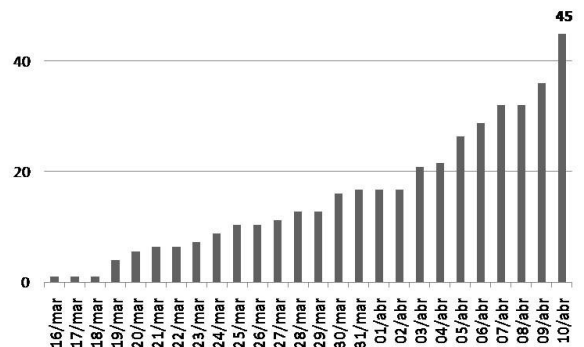
O novo coronavírus é um microorganismo de fácil disseminação na comunidade. Inicialmente, ele foi observado na China, sendo considerado um(a) _____. Logo, notou-se que esse país era uma área de _____ para tal enfermidade. Em pouco tempo, já era considerada um(a) _____.

Os conceitos epidemiológicos que completam corretamente as lacunas são, respectivamente,

- A) surto – epidemia – pandemia
- B) surto – pandemia – epidemia
- C) epidemia – surto – pandemia
- D) pandemia – surto – epidemia
- E) pandemia – epidemia – surto

QUESTÃO 28

Casos e mortes de coronavírus no Brasil
Coronavírus: avanço de casos confirmados por UF Alagoas



Fonte: Ministério da Saúde (Adaptado).

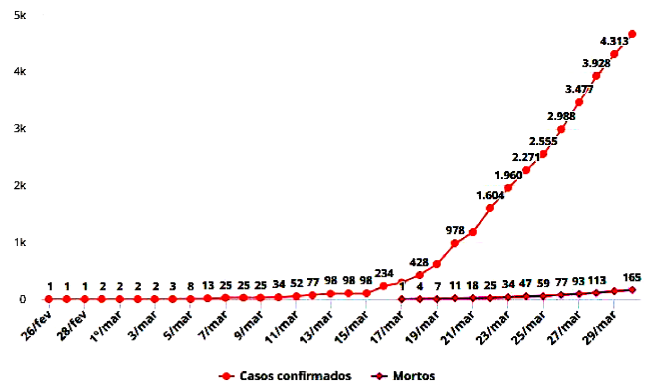
A figura destaca o avanço de casos do novo coronavírus em Alagoas. Nota-se que, dentro do mês de abril de 2020, houve um crescimento de registro de novos casos na ordem de pouco mais que duas vezes os valores registrados em março do mesmo ano. Diante dos dados destacados, é correto afirmar que houve um aumento na

- A) letalidade.
- B) incidência.
- C) resistência.
- D) prevalência.
- E) mortalidade.

QUESTÃO 29

Casos de coronavírus no Brasil

1º caso confirmado em 26 de fevereiro, e 1º morto em 17 de março; os dois eram do estado de SP



Disponível em: <<http://www.conselhodesaude.rj.gov.br/noticias/952-novo-coronavirus-avanca-no-brasil-e-mortes-oficiais-chegam-a-165.html>>. Acesso em: 17 jan. 2023.

Considerando a imagem, ao dividirmos o número de mortos pela quantidade de casos confirmados, encontraremos o valor da taxa de

- A) incidência.
- B) letalidade.
- C) resistência.
- D) prevalência.
- E) mortalidade.

QUESTÃO 30

Conhecer os fatores determinantes e condicionantes das epidemias e endemias é crucial para o seu enfrentamento. Nesse sentido, assinale a alternativa correta.

- A) Em uma endemia, há a ocorrência, em uma região ou comunidade, de exposição simultânea a uma fonte de infecção e o aumento do número de casos acima da média, em relação ao que normalmente seria esperado.
- B) Epidemia é a ocorrência de um agravamento dentro de um número esperado de casos para aquela região, num determinado período de tempo, baseado na sua ocorrência em anos anteriores não epidêmicos.
- C) Quando a epidemia tem aparecimento lento e se propaga por um longo período de tempo em determinada área geográfica, acometendo um grupo isolado de pessoas, é considerada pandemia.
- D) Uma condição imprescindível para a ocorrência epidêmica ou endêmica de uma doença infecciosa é a presença de significativo número de indivíduos suscetíveis ao agente causador.
- E) As doenças infecciosas podem ser transmitidas por contato direto (ex.: por vetor) ou por contato indireto (ex.: por secreções respiratórias).

QUESTÃO 31

A tuberculose (TB) ainda é um sério e desafiador problema de saúde pública global. No mundo, em 2018, cerca de dez milhões de pessoas adoeceram por tuberculose e 1,5 milhão de pessoas morreram em decorrência dela, sendo a TB a principal causa de morte por um único agente infeccioso. Assinale a alternativa que indica o agente etiológico da TB.

- A) *Mycobacterium tuberculosis*.
- B) Larvas de miracídeos.
- C) *Triatominae*.
- D) *Aedes aegypti*.
- E) Ortomixovírus.

QUESTÃO 32

Sistemas de Informação são conjuntos de informações sistematizadas. Temos na saúde alguns sistemas bastante importantes para a vigilância sanitária e epidemiológica. Dados os sistemas de informação,

- I. SIAB.
- II. SIA-SUS.
- III. SISHEMO.
- IV. SIAMED.

verifica-se que são de âmbito nacional

- A) I e II, apenas.
- B) I e III, apenas.
- C) II e IV, apenas.
- D) III e IV, apenas.
- E) I, II, III e IV.

QUESTÃO 33

Os epidemiologistas utilizam vários termos para conceituar as medidas de ocorrência de doenças. Várias medidas da ocorrência de doenças são baseadas nos conceitos fundamentais de incidência e de prevalência. Nesse contexto, dadas as afirmativas,

- I. Sem levar em conta a idade das pessoas acometidas (ou em risco), os principais fatores que determinam a taxa de prevalência são: a severidade da doença, a duração da doença e o número de novos casos.
- II. Prevalência indica o número de casos novos ocorridos, enquanto incidência refere-se ao número de casos (novos e velhos) identificados em um certo período de tempo em uma população.
- III. O cálculo das medidas de ocorrência de doenças deve incluir o número de pessoas expostas, ou seja, indivíduos que são potencialmente suscetíveis de adquirir a doença em estudo.

verifica-se que está(ão) correta(s)

- A) I, apenas.
- B) II, apenas.
- C) I e III, apenas.
- D) II e III, apenas.
- E) I, II e III.

QUESTÃO 34

Dadas as possíveis causas para o ressurgimento da dengue,

- I. Rápido crescimento demográfico associado a uma urbanização desordenada.
- II. Infraestrutura de saneamento e de serviços sanitários precários.
- III. Expansão de um mercado globalizado com um intenso fluxo de produtos e pessoas entre múltiplos países.
- IV. Negligenciamento nas ações de controle mecânico do vetor em regiões endêmicas.

verifica-se que estão corretas

- A) I e II, apenas.
- B) I e III, apenas.
- C) II e IV, apenas.
- D) III e IV, apenas.
- E) I, II, III e IV.

QUESTÃO 35

A quantidade de notificações de casos de dengue no Brasil, em 1998, foi de 363.010. Ao dividir esse número pelo total da população brasileira naquele ano, obtém-se a taxa de

- A) virulência.
- B) imunidade.
- C) prevalência.
- D) infectividade.
- E) suscetibilidade.

QUESTÃO 36

A dengue é uma doença capaz de causar altas taxas de morbidade e letalidade. Sobre a dengue, assinale a alternativa correta.

- A) Além do homem, os animais silvestres ou urbanos são capazes de se infectarem e manterem o ciclo da doença, durante o curto período de viremia.
- B) A principal característica que define a dengue hemorrágica não são as hemorragias, mas o extravasamento de plasma do intravascular para o interstício.
- C) A dengue é causada por um flavivírus e transmitida por um vetor macho, que necessita da saliva para maturar seus ovos fora de um reservatório ou fonte de infecção.
- D) Um indivíduo que já apresentou dengue não desenvolve imunidade ao sorotipo que o infectou, permanecendo susceptível a todos os sorotipos ativamente circulantes.
- E) Febre alta, mialgia e dor retro-orbitária ocorrem na forma clássica da dengue. No quadro inicial da dengue hemorrágica não há os sintomas da dengue clássica, mas sangramentos intensos.

QUESTÃO 37

Os dados provenientes das estatísticas de morbidade e mortalidade fornecem informações valiosas sobre o estado de saúde e a expectativa de vida das populações. Dadas as afirmativas sobre esses indicadores,

- I. As taxas de mortalidade são particularmente úteis na investigação de doenças com alta letalidade.
- II. As taxas de morbidade são mais úteis que as taxas de mortalidade para investigar doenças com baixa letalidade.
- III. A expectativa de vida é o número médio de anos que se espera viver, se as taxas de morbimortalidade forem mantidas.

verifica-se que está(ão) correta(s)

- A) I, apenas.
- B) III, apenas.
- C) I e II, apenas.
- D) II e III, apenas.
- E) I, II e III.

QUESTÃO 38

Dados os vetores biológicos,

- I. *Aedes aegypti*.
- II. *Triatominae*.
- III. *Anopheles*.

verifica-se que está(ão) relacionado(s) com a transmissão da dengue apenas

- A) I.
- B) II.
- C) III.
- D) I e II.
- E) I e III.

QUESTÃO 39

Dadas as medidas de combate ao mosquito *Aedes aegypti*,

- I. Substituir a água dos vasos de plantas por terra e manter seco o prato coletor.
- II. Utilizar água tratada com cloro (40 gotas de água sanitária a 2,5% para cada litro) para regar plantas.
- III. Desobstruir as calhas do telhado para não haver acúmulo de água.

verifica-se que está(ão) correta(s)

- A) II, apenas.
- B) III, apenas.
- C) I e II, apenas.
- D) I e III, apenas.
- E) I, II e III.

QUESTÃO 40

A vigilância sanitária e a vigilância epidemiológica são consideradas, conceitualmente, como integrantes da vigilância em saúde. Nesse contexto, é correto afirmar:

- A) a vigilância sanitária trata da prevenção de doenças e agravos transmissíveis ou não, como dengue, malária, febre amarela, diabetes, hipertensão, obesidade etc.
- B) a vigilância em saúde atua na prevenção ou detecção de mudanças nos fatores determinantes e condicionantes da saúde individual e coletiva, exceto em surtos e epidemias.
- C) a vigilância sanitária atua na eliminação, na diminuição ou na prevenção de riscos e agravos à saúde do indivíduo e da coletividade, mas não tem poder de exercer fiscalização e controle.
- D) a vigilância sanitária atua em vários campos da ciência como a química, a biologia, a física, a medicina, o direito, entre outros, assim como também acompanha o desenvolvimento industrial.
- E) o objetivo da vigilância epidemiológica é evitar a comercialização ou oferta de produtos e serviços inadequados, que possam acarretar riscos para o consumidor.

ATENÇÃO!

O(A) candidato(a) está **proibido(a)** de **destacar** esta folha com o **gabarito**, sob pena de **eliminação** do processo. Somente o(a) **Fiscal de Sala** está autorizado(a) a fazer isso no momento da saída do(a) candidato(a) em definitivo do Local de Prova.

Gabarito do(a) Candidato(a)

1	2	3	4	5	6	7	8	9	10	11	12	13	14	15	16	17	18	19	20
21	22	23	24	25	26	27	28	29	30	31	32	33	34	35	36	37	38	39	40

EDITAL Nº 001/2020 – PREFEITURA MUNICIPAL DE PENEDO

7.1 A COPEVE/UFAL divulgará o gabarito preliminar, juntamente com as Provas Objetivas, nos endereços eletrônicos www.copeve.ufal.br e www.fundepes.br, na data provável de 15/02/2023, a partir das 21h00

GABARITO OFICIAL

www.copeve.ufal.br

REALIZAÇÃO



www.ufal.edu.br



Você confia no resultado!

www.copeve.ufal.br



www.fundepes.br



PREFEITURA MUNICIPAL DE PENEDO